

مفهوم و تعریف حد

۱- کدام گزینه نادرست است؟

(۱) اگر $f(a) = L$ باشد، آن گاه $\lim_{x \rightarrow a} f(x) = L$.

(۲) اگر تابع f در بازه‌ی باز I ، فقط در سمت راست نقطه‌ی a تعریف شده باشد، ممکن است حد تابع f در نقطه‌ی a موجود باشد.

(۳) اگر تابع f در بازه‌ی باز I ، فقط در سمت چپ نقطه‌ی a تعریف شده باشد، ممکن است حد تابع f در نقطه‌ی a موجود باشد.

(۴) اگر تابع f در بازه‌ی باز I شامل نقطه‌ی a تعریف شده باشد، (مگر احتمالاً در خود a)، آن گاه ممکن است حد تابع f در نقطه‌ی a موجود باشد.

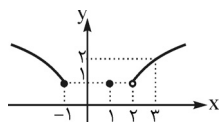
۲- تابع $f(x) = 2x + 1$ مفروض است. در جدول روبه‌رو حاصل $a + b + c$ کدام است؟

x	۱	$\leftarrow \dots$	$1/10$	$1/1$	$1/5$
$f(x)$	c	$\leftarrow \dots$	b	a	4

(۲) $6/02$

(۴) $6/22$

۳- با توجه به نمودار تابع f ، کدام حد درست محاسبه نشده است؟



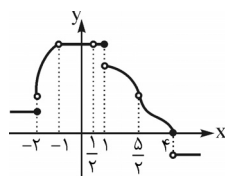
(۲) $\lim_{x \rightarrow 1} f(x) = 1$

(۴) $\lim_{x \rightarrow 3} f(x) = 2$

(۱) $\lim_{x \rightarrow 2} f(x) = 1$

(۳) $\lim_{x \rightarrow -1} f(x) = 1$

۴- با توجه به نمودار، تابع f در بازه‌ی $(-1, 3)$ در چند نقطه حد ندارد؟



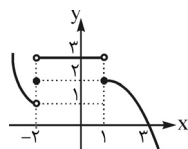
(۱) ۴

(۲) ۳

(۳) ۲

(۴) ۱

۵- با توجه به نمودار، کدام گزینه نادرست است؟



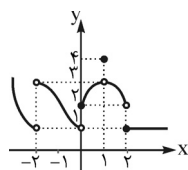
(۲) $\lim_{x \rightarrow 3} f(x) = 0$

(۴) $\lim_{x \rightarrow -2} f(x) = 3$

(۱) $\lim_{x \rightarrow 0} f(x) = 3$

(۳) $\lim_{x \rightarrow -1} f(x) = 3$

۶- نمودار تابع f به شکل روبه‌رو داده شده، حاصل $\lim_{x \rightarrow 0^-} f(x) - 2 \lim_{x \rightarrow 0^+} f(x) + \lim_{x \rightarrow (-2)^+} 3f(x) - \lim_{x \rightarrow 2^-} f(x)$ کدام است؟



(۱) ۶

(۲) ۲

(۳) ۵

(۴) ۳

۷- برای تابع $f(x) = \begin{cases} \sqrt{9-x^2} & |x| < 3 \\ 1 & x = 3 \end{cases}$ ، کدام یک از حدهای زیر وجود ندارد؟

(۴) $\lim_{x \rightarrow 2} f(x)$

(۳) $\lim_{x \rightarrow 5} f(x)$

(۲) $\lim_{x \rightarrow -3} f(x)$

(۱) $\lim_{x \rightarrow 3} f(x)$

۸- برای تابع $f(x) = \begin{cases} x^2 + 1 & |x| \geq 2 \\ 2 & x = 1 \end{cases}$ ، کدام یک از حدهای زیر وجود ندارد؟

(۴) $\lim_{x \rightarrow -2} f(x)$

(۳) $\lim_{x \rightarrow -3} f(x)$

(۲) $\lim_{x \rightarrow 2} f(x)$

(۱) $\lim_{x \rightarrow 1} f(x)$

۹- چه تعداد از حدهای زیر درست محاسبه نشده است؟

(د) $\lim_{x \rightarrow 1} \sqrt{x-1} = 0$

(۴) ۳

(ج) $\lim_{x \rightarrow 0} (1 + \sqrt{x}) = 1$

(۳) ۲

(ب) $\lim_{x \rightarrow 2} \frac{x^2-1}{x-1} = 3$

(۲) ۱

(الف) $\lim_{x \rightarrow -1} \sqrt{1-x^2} = 0$

(۱) هیچ

حد راست و چپ یک تابع

۱۰- اگر $\lim_{x \rightarrow a^+} f(x) = L$ باشد، کدام گزینه می تواند نادرست باشد؟

$\lim_{t \rightarrow 0} f(a+t) = L$ (۴)
 $\lim_{\delta \rightarrow 0^+} f(a-\delta) = L$ (۳)
 $\lim_{\delta \rightarrow 0^+} f(a+\delta) = L$ (۲)
 $\lim_{t \rightarrow 0} f(a+t^2) = L$ (۱)

۱۱- تابع $f(x) = \begin{cases} (a+1)x+3 & x > -3 \\ -2x^2+b & x < -3 \end{cases}$ مفروض است. اگر $\lim_{x \rightarrow -3^-} f(x) = -4$ و $\lim_{x \rightarrow -3^+} f(x) = -1$ باشد، آنگاه مقدار $a-b$ کدام است؟ (نوبتی ۸۵)

۱ (۴) -۷ (۳) ۷ (۲) -۱ (۱)

۱۲- اگر تابع $f(x) = \begin{cases} \sqrt{2x^2-4a} & x \geq 2 \\ x+b & -2 \leq x < 2 \\ x^2+bx+3a & x < -2 \end{cases}$ در نقطه‌ی $x = -2$ دارای حد بوده و $\lim_{x \rightarrow 2^+} f(x) = 2$ باشد، مقدار $2b-a$ کدام است؟ (نوبتی ۸۹)

۳ (۴) ۴ (۳) ۵ (۲) ۶ (۱)

۱۳- تابع $f(x) = \begin{cases} ax^2+bx+5 & x \geq 3 \\ \frac{ax-3}{x+b} & x < 3 \end{cases}$ مفروض است. اگر $\lim_{x \rightarrow 3^-} f(x) = 2$ و $\lim_{x \rightarrow 3^+} f(x) = 5$ باشد، مقدار $2a-b$ کدام است؟ (نوبتی ۸۳)

۵ (۴) -۱ (۳) -۲ (۲) ۴ (۱)

۱۴- اگر تابع $f(x) = \begin{cases} 3ax+b & x \geq 1 \\ 4x^2-3bx-a & x < 1 \end{cases}$ در نقطه‌ی $x = 1$ دارای حد باشد، مقدار $a+b$ کدام است؟

۱ (۴) ۲ (۳) ۳ (۲) ۴ (۱)

۱۵- تابع $f(x) = \frac{2a|x|}{x} + \frac{b(x-1)}{|x-1|}$ مفروض است. اگر $\lim_{x \rightarrow 0^+} f(x) = 1$ و $\lim_{x \rightarrow 1^+} f(x) = -3$ باشد، حاصل $4a^2+b^2$ کدام است؟

۳ (۴) ۴ (۳) ۶ (۲) ۵ (۱)

۱۶- تابع $f(x) = \frac{x-1}{\sqrt{x+3}-2}$ در نقطه‌ای به طول ۳-.....

(۱) حد و مقدار دارد. (۲) حد دارد ولی مقدار ندارد. (۳) حد ندارد ولی مقدار دارد. (۴) حد و مقدار ندارد.

۱۷- تابع $f(x) = \frac{x|x-2|}{x^2-4}$ در نقطه‌ای به طول ۲-.....

(۱) حد و مقدار دارد. (۲) حد دارد ولی مقدار ندارد. (۳) حد ندارد ولی مقدار دارد. (۴) حد و مقدار ندارد.

۱۸- اگر $f(x) = \begin{cases} \sin \frac{\pi x}{6} + \cos \frac{\pi x}{6} & x > -4 \\ \sin \frac{\pi x}{6} - \cos \frac{\pi x}{6} & x < -4 \end{cases}$ باشد، حاصل $\lim_{x \rightarrow (-6)^-} f(\frac{x}{3})$ کدام است؟

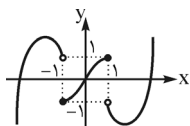
$\frac{\sqrt{3}}{2} + 1$ (۴) $-\frac{\sqrt{3}}{2} + 1$ (۳) $\frac{\sqrt{3}}{2} - 1$ (۲) $-\frac{\sqrt{3}}{2} - 1$ (۱)

۱۹- اگر $f(x) = \begin{cases} \tan \frac{\pi x}{4} - \cos \frac{\pi x}{4} & x > 1 \\ \cot \frac{\pi x}{4} + \sin \frac{\pi x}{4} & x \leq 1 \end{cases}$ باشد، حاصل $\lim_{x \rightarrow (-1)^-} f(|\frac{2x-1}{3}|)$ کدام است؟

-۲ (۴) ۲ (۳) $-\frac{\sqrt{2}}{2} - 1$ (۲) $\frac{\sqrt{2}}{2} - 1$ (۱)

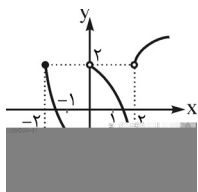
۲۰- اگر $f(x) = \begin{cases} \frac{3a|x-1|}{x-1} + 1 & x > 1 \\ 2 & x = 1 \\ ax^2 - \frac{3|x-1|}{x-1} & x < 1 \end{cases}$ باشد و $\lim_{x \rightarrow (-2)^-} f(-\frac{x}{2}) = f(1)$ ، آنگاه مقدار a کدام است؟

$\frac{1}{3}$ (۴) -۱ (۳) ۱ (۲) $-\frac{1}{3}$ (۱)



۲۱- نمودار f داده شده است. حاصل $\lim_{x \rightarrow 1^+} f(x) + 2 \lim_{x \rightarrow 0} f(1-x^2) + \lim_{x \rightarrow (-1)^-} f(|x|)$ کدام است؟

- (۱) ۲
(۲) ۱
(۳) صفر
(۴) ۴



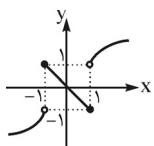
۲۲- با توجه به شکل روبه‌رو حاصل $\lim_{x \rightarrow 0^+} f \circ f \circ f(x)$ کدام است؟

- (۱) ۱
(۲) -۱
(۳) ۲
(۴) -۲

۲۳- اگر $f(x) = \begin{cases} -x & x > 0 \\ 1 & x = 0 \\ -2x & x < 0 \end{cases}$ باشد، حاصل $\lim_{x \rightarrow 0^+} f \circ f \circ f(x)$ کدام است؟

- (۱) صفر
(۲) ۱
(۳) -۲
(۴) -۱

۲۴- با توجه به نمودار تابع f کدام حد نادرست محاسبه شده است؟



$$\lim_{x \rightarrow 2^-} f\left(\frac{x}{2}\right) = -1 \quad (۲)$$

$$\lim_{x \rightarrow 0^-} f(|x^2 - 1|) = -1 \quad (۱)$$

$$\lim_{x \rightarrow 1^-} f(f(x)) = -1 \quad (۳)$$

$$\lim_{x \rightarrow (-1)^-} |f(x)| = 1 \quad (۴)$$

۲۵- اگر $f(x) = \begin{cases} \frac{x-1}{|x-1|} & x \neq 1 \\ 0 & x = 1 \end{cases}$ باشد، حاصل $\lim_{x \rightarrow 0^-} f(1+x^2) + \lim_{x \rightarrow 0^-} f(1-x^2)$ کدام است؟

- (۱) -۲
(۲) -۱
(۳) صفر
(۴) ۲

۲۶- تابع $f(x) = \begin{cases} \frac{|\sin 2x|}{\sin 2x} + 2 \cos x & |x| < \pi \\ \frac{\sin 3x}{|\sin 3x|} - \cos x & |x| > \pi \end{cases}$ مفروض است. حاصل $\lim_{x \rightarrow \pi^-} f(x) + \lim_{x \rightarrow (-\pi)^-} f(x)$ کدام است؟

- (۱) ۳
(۲) -۱
(۳) ۱
(۴) -۳

۲۷- مجموعه حد چپ و راست تابع $f(x) = \frac{(\sin \frac{\pi x}{2} + \cos \pi x)|x+1|}{3x^2 + 4x + 1}$ در نقطه‌ی $x = -1$ کدام است؟

- (۱) -۲
(۲) صفر
(۳) ۲
(۴) -۱

۲۸- حاصل $\lim_{x \rightarrow -1} \sqrt{3x^2 + 5x + 2}$ کدام است؟

- (۱) موجود نیست.
(۲) صفر
(۳) $\sqrt{10}$
(۴) ۱

۲۹- چه تعداد از حدهای زیر وجود دارد؟

$$\lim_{x \rightarrow 1} \sqrt{x^2 - 1} - \sqrt{x^2 - 1} \quad (ج)$$

$$\lim_{x \rightarrow 2} \frac{|x-2|}{x-2} \quad (ب)$$

$$\lim_{x \rightarrow 2} \sqrt{\log(x-2)} \quad (الف)$$

- (۱) صفر
(۲) ۱
(۳) ۲
(۴) ۳

۳۰- اگر $f(x) = \begin{cases} \frac{a|\sin x + \cos x|}{\sin x + \cos x} + 1 & x \neq \frac{\pi}{4} \\ \frac{2x}{\pi} - 1 & x = \frac{\pi}{4} \end{cases}$ و $\lim_{x \rightarrow \frac{\pi}{4}^+} f(-\frac{2x}{4}) = f(\frac{\pi}{4})$ باشد، مقدار a کدام است؟

- (۱) $\frac{5}{4}$
(۲) $-\frac{5}{4}$
(۳) $-\frac{3}{4}$
(۴) $\frac{3}{4}$

۳۱- اگر $f(x) = \frac{2|x-2|}{x-2}$ باشد، حد چپ تابع $f \circ f(x)$ در نقطه‌ی $x = 2$ کدام است؟

- (۱) صفر
(۲) $\frac{1}{2}$
(۳) ۲
(۴) -۲

۳۲- تابع $f(x) = \begin{cases} \frac{3x^2 + |x|}{2|x|} & x > 0 \\ \frac{x^2 - 2|x|}{|x|} & x < 0 \end{cases}$ مفروض است. حاصل $\lim_{x \rightarrow \frac{\pi}{4}^+} f(\sin x - \cos x) - \lim_{x \rightarrow \frac{\pi}{4}^-} f(\sin x - \cos x)$ کدام است؟

- (۱) -۳
(۲) $\frac{9}{2}$
(۳) $-\frac{9}{2}$
(۴) ۳

۳۳- تابع $f(x) = \begin{cases} \sin \pi x - \cos x & x > 0 \\ 2x - 1 & x = 0 \\ \tan \pi x - 2 \cos x & x < 0 \end{cases}$ مفروض است. حاصل $\lim_{x \rightarrow 0^+} f(\sin x - \tan x) - \lim_{x \rightarrow 0^-} f(\sin x - \tan x)$ کدام است؟

(۱) -۳ (۲) صفر (۳) -۱ (۴) -۴

۳۴- تابع $f(x) = \begin{cases} \frac{|x|}{x} & x \neq 0, -1 \\ 0 & x = 0 \\ 2 & x = -1 \end{cases}$ مفروض است. حاصل حد راست تابع $f \circ f \circ f(\sin x - \tan x)$ در نقطه‌ی $x = 0$ کدام است؟

(۱) -۱ (۲) ۲ (۳) ۱ (۴) صفر

۳۵- اگر $f(x) = \begin{cases} \sin^2 2x & x \geq 0 \\ \cos^2 3x & x < 0 \end{cases}$ و $g(x) = \begin{cases} -1 & x \geq 0 \\ 2x & x < 0 \end{cases}$ باشد، چه تعداد از توابع زیر در نقطه‌ی $x = 0$ دارای حد هستند؟

(الف) $\frac{g}{f}$ (ب) $f + g$ (ج) $f - g$ (د) $f \cdot g$

(۱) ۴ (۲) ۳ (۳) ۲ (۴) ۱

۳۶- کدام تابع در نقطه‌ی $x = 1$ دارای حد نیست؟

(۱) $f(x) = \sqrt{\log x}$ (۲) $f(x) = \frac{1}{\sqrt{1-x^2}}$ (۳) $f(x) = \sqrt{\sin(x-1)}$ (۴) $f(x) = 2^{x-1}$

۳۷- کدام یک از حدود زیر وجود ندارد؟

(۱) $\lim_{x \rightarrow 0} \sqrt{\sin x - \tan x}$ (۲) $\lim_{x \rightarrow 1} \sqrt{x-1} - \sqrt{x-1}$ (۳) $\lim_{x \rightarrow 1} \log_x 1$ (۴) $\lim_{x \rightarrow 0} \log_x (x+1)$

۳۸- اگر تابع $f(x) = \begin{cases} 3x^2 - x & x > 1 \\ ax^2 + b & x < 1 \end{cases}$ در نقطه‌ی $x = 1$ و تابع $g(x) = \begin{cases} 2a - x^2 & x > 2 \\ x^2 + 2b & x < 2 \end{cases}$ در نقطه‌ی $x = 2$ دارای حد باشند، کدام تابع زیر در نقطه‌ی $x = 2$ دارای حد است؟

(۱) $h(x) = \begin{cases} \frac{ax}{2} + b & x > 2 \\ 2x - a & x < 2 \end{cases}$ (۲) $h(x) = \begin{cases} 2ax + 2b & x > 2 \\ ax^2 + bx & x < 2 \end{cases}$

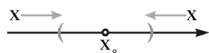
(۳) $h(x) = \begin{cases} ax + bx & x > 2 \\ |bx - a| & x < 2 \end{cases}$ (۴) $h(x) = \begin{cases} 2ax + |x| & x > 2 \\ 2ax + bx & x < 2 \end{cases}$



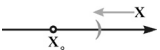
مفهوم حد

مفهوم میل کردن نقطه‌ی متحرک x به نقطه‌ی ثابت x_0 :

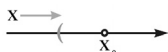
نقطه‌ی ثابت x_0 را روی محور افقی در نظر می‌گیریم و نقطه‌ی متحرک x را به سمت x_0 حرکت می‌دهیم. می‌گوییم x به اندازه‌ی کافی به x_0 نزدیک شده است، هرگاه x در یک بازه‌ی بسیار کوچک اطراف x_0 قرار گیرد. دقت می‌کنیم، نقطه‌ی متحرک به نقطه‌ی ثابت بسیار نزدیک می‌شود ولی هیچ‌گاه نمی‌تواند بر آن منطبق شود ($x \neq x_0$). عمل میل کردن نقطه‌ی متحرک x به نقطه‌ی ثابت x_0 را با نماد $x \rightarrow x_0$ نمایش می‌دهند.



بدیهی است نزدیک شدن x به x_0 از دو سمت امکان‌پذیر است. یکی از سمت مقادیر بزرگ‌تر از x_0 یعنی سمت راست که نماد آن $x \rightarrow x_0^+$ می‌باشد و دیگری از سمت مقادیر کوچک‌تر از x_0 یعنی سمت چپ که نماد آن $x \rightarrow x_0^-$ است. به جملات زیر و تعابیر هندسی آن‌ها دقت کنید:



هنگامی که می‌نویسیم $x \rightarrow x_0^+$ یعنی x فقط از مقادیر بزرگ‌تر از x_0 به x_0 میل می‌کند.

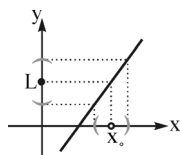


هنگامی که می‌نویسیم $x \rightarrow x_0^-$ یعنی x فقط از مقادیر کوچک‌تر از x_0 به x_0 میل می‌کند.

مفهوم و تعبیر هندسی حد تابع:

برای پرداختن به مفهوم $\lim_{x \rightarrow x_0} f(x) = L$ روی محور افقی یک بازه‌ی بسیار کوچک در مجاورت x_0 (با فرض $x \neq x_0$) در نظر می‌گیریم. بدیهی است

که متناظر با این بازه روی محور افقی، یک بازه روی محور عمودی خواهیم داشت. ما می‌خواهیم تابع f را به اندازه‌ی دلخواه به L نزدیک کنیم.



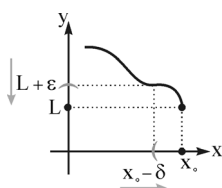
از آن جایی که y تابع x است، برای این که L به y نزدیک شود، ناچاریم x را به سمت x_0 میل دهیم. در نتیجه اگر x وارد بازه‌ی بسیار کوچک مجاورت x_0 (با فرض $x \neq x_0$) شود، آن‌گاه y نیز در بازه‌ی بسیار کوچک در مجاورت L قرار می‌گیرد. هنگامی که می‌نویسیم $\lim_{x \rightarrow x_0} f(x) = L$ یعنی تابع f را می‌توان به مقدار دلخواه به L

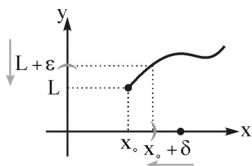
نزدیک کرد به شرطی که x به قدر کافی به x_0 نزدیک شود.

حد چپ و حد راست:

هنگامی که می‌نویسیم $\lim_{x \rightarrow x_0^-} f(x) = L$ یعنی اگر بتوان برای x ‌های داخل بازه‌ی بسیار کوچک سمت چپ x_0 به

اندازه‌ی کافی به x_0 نزدیک شد، آن‌گاه مقادیر f به اندازه‌ی دلخواه به L نزدیک می‌شوند. به عبارت دیگر وقتی که x از مقادیر کوچک‌تر از x_0 به x_0 نزدیک شود، تابع f به اندازه‌ی دلخواه به نقطه‌ی L نزدیک می‌شود.





همچنین هنگامی که می‌نویسیم $\lim_{x \rightarrow x_0^+} f(x) = L$ یعنی اگر بتوان برای x های داخل بازه‌ی بسیار کوچک سمت راست x_0 به اندازه‌ی کافی به x_0 نزدیک شد، آن گاه مقادیر f به اندازه‌ی دلخواه به L نزدیک می‌شوند. به عبارت دیگر وقتی x از مقادیر بزرگ‌تر از x_0 به x_0 میل می‌کند، تابع f به اندازه‌ی دلخواه به نقطه‌ی L نزدیک می‌شود.

اگر x_0 یک نقطه‌ی میانی در دامنه‌ی f باشد و تابع f در نقطه‌ی x_0 حد راست و حد چپ داشته باشد و این دو حد با هم برابر باشند، تابع در x_0 دارای حد است؛ و برعکس، اگر تابع در یک نقطه حد داشته باشد، در آن نقطه حد راست و حد چپ دارد و این دو حد با هم برابرند.

$$\lim_{x \rightarrow x_0} f(x) = L \iff \lim_{x \rightarrow x_0^+} f(x) = \lim_{x \rightarrow x_0^-} f(x) = L$$

اما اگر x_0 یک نقطه‌ی انتهایی دامنه‌ی تابع f باشد، در این حالت حد چپ یا راست f در x_0 همان حد تابع f در x_0 است. فقط در نقاطی که نقاط میانی دامنه‌ی یک تابع هستند، مفهوم حد تابع و حد راست و چپ تابع با هم متفاوت‌اند.

در بررسی حد یک تابع، هرگاه به یکی از نقاط زیر برخوردیم، ناچاریم حد چپ و راست تابع را بررسی کنیم:

۱ ریشه‌های ساده‌ی داخل قدرمطلق

۲ ریشه‌های ساده‌ی زیر رادیکال فرجه زوج

۳ ریشه‌های ساده‌ی مخرج کسر

۴ لبه‌های دامنه

۵ نقاط شکستگی دامنه (در توابع چندضابطه‌ای)

۶ نقاطی که داخل جزءصحیح را به عددی صحیح تبدیل می‌کنند.

توجه کنید حد تابع f در نقطه‌ی a ، به معین بودن یا معین نبودن تابع در a بستگی ندارد.

۲- گزینه‌ی «۳»

$$f(1/1) + f(1/0.1) + \lim_{x \rightarrow 1^+} f(x) = 3/2 + 3/0.2 + 3 = 9/2$$

۳- گزینه‌ی «۲»

تابع f در $x = 1$ فقط مقدار دارد ولی حد ندارد. زیرا در بازه‌ی باز اطراف این نقطه تعریف نشده است.

۴- گزینه‌ی «۴»

تابع f فقط در نقطه‌ی $x = 1$ متعلق به بازه‌ی $(-1, 3)$ حد ندارد و در سایر نقاط این بازه دارای حد است. دقت می‌کنیم که این تابع در نقاط به طول‌های $x = -2$ و $x = 4$ نیز فاقد حد است ولی این نقاط متعلق به بازه‌ی $(-1, 3)$ نیستند. همچنین تابع در نقاط به طول $x = \frac{1}{2}$ و $x = \frac{5}{2}$ مقدار ندارد، ولی حد دارد.

۵- گزینه‌ی «۴»

تابع f در نقطه‌ی $x = -2$ حد ندارد. زیرا:

$$\lim_{x \rightarrow (-2)^+} f(x) = 3$$

$$\lim_{x \rightarrow (-2)^-} f(x) = 1$$

۶- گزینه‌ی «۳»

$$\begin{cases} \lim_{x \rightarrow 0^-} f(x) = 1 \Rightarrow -2 \lim_{x \rightarrow 0^-} f(x) = -2 \\ \lim_{x \rightarrow (-2)^+} f(x) = 3 \Rightarrow \lim_{x \rightarrow (-2)^+} 3f(x) = 9 \Rightarrow -2 \lim_{x \rightarrow 0^-} f(x) + \lim_{x \rightarrow (-2)^+} 3f(x) - \lim_{x \rightarrow -2^-} f(x) = 5 \\ \lim_{x \rightarrow 2^-} f(x) = 2 \Rightarrow - \lim_{x \rightarrow 2^-} f(x) = -2 \end{cases}$$

۷- گزینه‌ی «۳»

با توجه به $D_f = (-3, 2) \cup \{5\}$ تابع f در نقطه‌ی $x = 5$ فقط مقدار دارد ولی حد ندارد. زیرا تابع در یک بازه‌ی باز مانند I در اطراف این نقطه تعریف نشده است.

۸- گزینه‌ی «۱»

با توجه به $D_f = (-\infty, -2] \cup \{1\} \cup [2, +\infty)$ می‌توان گفت فقط $\lim_{x \rightarrow 1} f(x)$ وجود ندارد. زیرا تابع در اطراف این نقطه تعریف نشده است.

۹- گزینه‌ی «۱»

حد هر چهار قسمت درست محاسبه شده است.

۱۰- گزینه‌ی «۴»

۱ اشاره به حد راست تابع f در نقطه‌ی a دارد. زیرا اگر t از چپ و راست به صفر نزدیک شود، مقدار t^2 همواره مثبت است. ۲ نیز به دلیل آن که δ از مقادیر بزرگ‌تر از صفر به صفر میل می‌کند، اشاره به حد راست تابع f در نقطه‌ی a دارد. در ۳ چون ماهیت δ منفی است، حاصل $f(a-\delta)$ برابر $f(a^+)$ می‌باشد. یعنی تابع دارای حد راست در نقطه‌ی a است. اما در ۴، $\lim_{t \rightarrow 0} f(a+t) = L$ ، اشاره به حد چپ و راست تابع در نقطه‌ی a دارد. در صورتی که در فرض مسئله فقط حد راست تابع در نقطه‌ی a برابر L است و ما از حد چپ تابع اطلاعی نداریم. پس ۴

می‌تواند نادرست باشد.

۱۱- گزینه‌ی «۳»

$$\lim_{x \rightarrow -1} f(x) = \lim_{x \rightarrow -1} (a+1)x + 3 = (a+1)(-1) + 3 = -a - 1 + 3 = -a + 2 = -4 \Rightarrow a = 6$$

$$\lim_{x \rightarrow -4} f(x) = \lim_{x \rightarrow -4} (-2x^2 + b) = -32 + b = -1 \Rightarrow b = 31$$

$$4a - b = 4(6) - 31 = -7$$

پس:

۱۲- گزینه‌ی «۲»

از آنجایی که تابع f در نقطه‌ی $x = -2$ دارای حد است، باید حد چپ و راست در این نقطه با هم برابر باشند.

$$\lim_{x \rightarrow (-2)^+} f(x) = \lim_{x \rightarrow (-2)^+} (x + b) = -2 + b$$

$$\lim_{x \rightarrow (-2)^-} f(x) = \lim_{x \rightarrow (-2)^-} (x^2 + bx + 3a) = 4 - 2b + 3a$$

$$\lim_{x \rightarrow (-2)^-} f(x) = \lim_{x \rightarrow (-2)^+} f(x) \Rightarrow -2 + b = 4 - 2b + 3a \Rightarrow 3a - 2b = -6 \Rightarrow a - b = -2$$

$$\lim_{x \rightarrow 2^+} f(x) = 2 \Rightarrow \lim_{x \rightarrow 2^+} \sqrt{2x^2 - 4a} = \sqrt{8 - 4a} = 2 \Rightarrow 8 - 4a = 4 \Rightarrow a = 1$$

با توجه به این که $a = 1$ و $a - b = -2$ ، می‌توان نتیجه گرفت $b = 3$. پس:

۱۳- گزینه‌ی «۴»

$$\lim_{x \rightarrow 2^-} f(x) = \lim_{x \rightarrow 2^-} \frac{ax - 3}{x + b} = \frac{2a - 3}{2 + b} = 2 \Rightarrow 2a - 3 = 6 + 2b \Rightarrow 2a - 2b = 9$$

$$\lim_{x \rightarrow 2^+} f(x) = \lim_{x \rightarrow 2^+} (ax^2 + bx + 5) = 9a + 2b + 5 = 5 \Rightarrow 9a + 2b = 0 \Rightarrow 3a + b = 0$$

با حل دو معادله، دو مجهول خواهیم داشت $a = 1$ و $b = -3$. پس $2a - b = 2 - (-3) = 5$.

۱۴- گزینه‌ی «۴»

اگر تابع f در نقطه‌ی $x = 1$ دارای حد باشد، باید حد چپ و راست تابع در این نقطه موجود و با هم برابر باشند.

$$\lim_{x \rightarrow 1^+} f(x) = \lim_{x \rightarrow 1^+} f(x) \Rightarrow \lim_{x \rightarrow 1^+} (3ax + b) = \lim_{x \rightarrow 1^+} (4x^2 - 3bx - a) \Rightarrow 3a + b = 4 - 3b - a \Rightarrow 4a + 4b = 4 \Rightarrow a + b = 1$$

۱۵- گزینه‌ی «۱»

$$\lim_{x \rightarrow 0^+} f(x) = \lim_{x \rightarrow 0^+} \left(\frac{2a|x|}{x} + \frac{b(x-1)}{|x-1|} \right) = \lim_{x \rightarrow 0^+} \left(\frac{2ax}{x} - \frac{b(x-1)}{x-1} \right) = 2a - b = 1 \quad ①$$

$$\lim_{x \rightarrow 0^+} f(x) = \lim_{x \rightarrow 0^+} \left(\frac{2a|x|}{x} + \frac{b(x-1)}{|x-1|} \right) = \lim_{x \rightarrow 0^+} \left(\frac{2ax}{x} + \frac{b(x-1)}{x-1} \right) = 2a + b = -3 \quad ②$$

$$4a^2 + b^2 = 4\left(\frac{1}{4}\right) + 9 = 10$$

از ① و ② نتیجه می‌گیریم $b = -2$ و $a = -\frac{1}{4}$. پس:

$$f(-3) = \frac{-3-1}{-2} = 2$$

$$\lim_{x \rightarrow -3} f(x) = \lim_{x \rightarrow (-3)^+} f(x) = 2$$

پس تابع f در نقطه‌ی $x = -3$ حد و مقدار دارد.

تابع f دامنه‌ای برابر $D_f = \mathbb{R} - \{-2, 2\}$ دارد. پس تابع در نقطه‌ای به طول ۲ مقدار ندارد.

$$\lim_{x \rightarrow 2^-} f(x) = \lim_{x \rightarrow 2^-} \frac{-x(x-2)}{(x-2)(x+2)} = \lim_{x \rightarrow 2^-} \frac{-x}{x+2} = -\frac{1}{2}, \quad \lim_{x \rightarrow 2^+} f(x) = \lim_{x \rightarrow 2^+} \frac{x(x-2)}{(x-2)(x+2)} = \lim_{x \rightarrow 2^+} \frac{x}{x+2} = \frac{1}{2}$$

پس تابع f در نقطه‌ای به طول ۲ حد ندارد.

وقتی می‌نویسیم $x \rightarrow (-6)^-$ یعنی $x < -6$. حال طرفین نامساوی را در عدد $\frac{2}{3}$ ضرب می‌کنیم. یعنی $\frac{2}{3}x < -4$. پس:

$$\lim_{x \rightarrow (-6)^-} f\left(\frac{2x}{3}\right) = f((-4)^-)$$

حال برای محاسبه‌ی $f((-4)^-)$ ، کافی است حاصل $\lim_{x \rightarrow (-4)^-} f(x)$ را به دست آوریم:

$$\lim_{x \rightarrow (-4)^-} f(x) = \lim_{x \rightarrow (-4)^-} \left(\sin \frac{2\pi x}{6} - \cos \frac{2\pi x}{4} \right) = \sin\left(-\frac{4\pi}{6}\right) - \cos\left(-\frac{12\pi}{4}\right) = -\sin\left(\frac{4\pi}{3}\right) - \cos(3\pi) = -\sin\left(\pi + \frac{\pi}{3}\right) - \cos \pi = \frac{\sqrt{3}}{2} + 1$$

$$x < -1 \Rightarrow 2x < -2 \Rightarrow 2x - 1 < -3 \Rightarrow \frac{2x-1}{3} < -1$$

وقتی می‌نویسیم $x \rightarrow (-1)^-$ یعنی $x < -1$. پس:

$$\lim_{x \rightarrow (-1)^-} f\left(\left|\frac{2x-1}{3}\right|\right) = f(|(-1)^-|) = f(1^+)$$

و در نتیجه:

حال برای محاسبه‌ی $f(1^+)$ می‌توان از $\lim_{x \rightarrow 1^+} f(x)$ استفاده نمود.

$$\lim_{x \rightarrow 1^+} f(x) = \lim_{x \rightarrow 1^+} \left(\tan \frac{2\pi x}{4} - \cos \frac{2\pi x}{4} \right) = \tan \frac{2\pi}{4} - \cos \frac{2\pi}{4} = \tan\left(\pi - \frac{\pi}{4}\right) - \cos\left(\pi - \frac{\pi}{4}\right) = -\tan \frac{\pi}{4} + \cos \frac{\pi}{4} = -1 + \frac{\sqrt{2}}{2}$$

$$x < -2 \Rightarrow \frac{x}{2} < -1 \Rightarrow \frac{-x}{2} > 1$$

وقتی می‌نویسیم $x \rightarrow (-2)^-$ یعنی $x < -2$. پس:

و در نتیجه:

$$\lim_{x \rightarrow (-2)^-} f\left(-\frac{x}{2}\right) = \lim_{x \rightarrow 1^+} f(x) = \lim_{x \rightarrow 1^+} \left(\frac{2a|x-1|}{x-1} + 1 \right) = \lim_{x \rightarrow 1^+} \left(\frac{2a(x-1)}{x-1} + 1 \right) = 2a + 1 \Rightarrow 2a + 1 = f(1) \Rightarrow 2a + 1 = 2 \Rightarrow a = \frac{1}{2}$$

$$\lim_{x \rightarrow (-1)^-} f(|x|) = \lim_{x \rightarrow 1^+} f(x) = -1$$

$$\lim_{x \rightarrow 0} f(1-x^2) = \lim_{x \rightarrow 1^-} f(x) = 1$$

$$\lim_{x \rightarrow 1^+} f \circ f(x) = f(f(1^+)) = f((-1)^-) = 1$$

$$\lim_{x \rightarrow (-1)^-} f(|x|) + 2 \lim_{x \rightarrow 0} f(1-x^2) + \lim_{x \rightarrow 1^+} f \circ f(x) = -1 + 2 + 1 = 2$$

و در نتیجه:

۲۲- گزینه‌ی «۳»

$$\begin{aligned}\lim_{x \rightarrow 0^+} f(x) &= 2^- \\ \lim_{x \rightarrow 0^+} f(f(x)) &= \lim_{x \rightarrow 2^-} f(x) = (-2)^+ \\ \lim_{x \rightarrow 0^+} f(f(f(x))) &= \lim_{x \rightarrow (-2)^+} f(x) = 2 \\ \lim_{x \rightarrow 0^+} f(f(f(f(x)))) &= f(f(2^-)) = f(f(2^-)) = f((-2)^+) = 2\end{aligned}$$

حاصل فوق را می‌توان به صورت خلاصه‌تر نیز به دست آورد:

۲۳- گزینه‌ی «۱»

$$\lim_{x \rightarrow 0^+} f \circ f \circ f(x) = f(f(f(0^+))) = f(f(0^-)) = f(0^+) = 0$$

۲۴- گزینه‌ی «۳»

$$\begin{aligned}\text{۱} \quad \lim_{x \rightarrow 0^-} f(|x^2 - 1|) &= f(|(-1)^+|) = f(1^-) = -1 \\ \text{۲} \quad \lim_{x \rightarrow 2^-} f\left(\frac{x}{2}\right) &= \lim_{x \rightarrow 1^-} f(x) = -1 \\ \text{۳} \quad \lim_{x \rightarrow 1^-} f(f(x)) &= f((-1)^+) = 1 \\ \text{۴} \quad \lim_{x \rightarrow (-1)^-} |f(x)| &= |-1| = 1\end{aligned}$$

پس حد محاسبه شده در ۱، ۲ و ۴ درست و در ۳ نادرست است.

۲۵- گزینه‌ی «۱»

$$f(x) = \begin{cases} 1 & x > 1 \\ 0 & x = 1 \\ -1 & x < 1 \end{cases}$$

ابتدا تابع f را به صورت $f(x)$ می‌نویسیم، سپس حدود خواسته‌شده را محاسبه می‌کنیم:

$$\lim_{x \rightarrow 0^-} f(1 + x^2) = f(1^+) = 1, \quad \lim_{x \rightarrow 0^-} f(1 - x^2) = f(1^-) = -1$$

$$-\lim_{x \rightarrow 0^-} f(1 + x^2) + \lim_{x \rightarrow 0^-} f(1 - x^2) = -1 - 1 = -2$$

پس خواهیم داشت:

۲۶- گزینه‌ی «۲»

$$f(x) = \begin{cases} \frac{|\sin 2x|}{\sin 2x} + 2 \cos x & -\pi < x < \pi \\ \frac{\sin 2x}{|\sin 2x|} - \cos x & x > \pi \text{ یا } x < -\pi \end{cases}$$

 تابع f را می‌توان به صورت مقابل نوشت:

حال حدهای موردنظر را محاسبه می‌کنیم:

$$\lim_{x \rightarrow \pi^-} f(x) = \lim_{x \rightarrow \pi^-} \left(\frac{|\sin 2x|}{\sin 2x} + 2 \cos x \right) = \lim_{x \rightarrow \pi^-} (-1 + 2 \cos x) = -1 - 2 = -3$$

$$\lim_{x \rightarrow (-\pi)^-} f(x) = \lim_{x \rightarrow (-\pi)^-} \left(\frac{\sin 2x}{|\sin 2x|} - \cos x \right) = \lim_{x \rightarrow (-\pi)^-} (1 - \cos x) = 1 + 1 = 2$$

۲۷- گزینه‌ی «۲»

$$\lim_{x \rightarrow (-1)^+} f(x) = \lim_{x \rightarrow (-1)^+} \frac{(\sin \frac{\pi x}{2} + \cos \pi x)(x+1)}{(x+1)(2x+1)} = \lim_{x \rightarrow (-1)^+} \frac{\sin \frac{\pi x}{2} + \cos \pi x}{2x+1} = \frac{-1-1}{-3+1} = \frac{-2}{-2} = 1$$

$$\lim_{x \rightarrow (-1)^-} f(x) = \lim_{x \rightarrow (-1)^-} \frac{-(\sin \frac{\pi x}{2} + \cos \pi x)(x+1)}{(x+1)(2x+1)} = \lim_{x \rightarrow (-1)^-} \frac{-(\sin \frac{\pi x}{2} + \cos \pi x)}{2x+1} = \frac{2}{-2} = -1$$

۲۸- گزینه‌ی «۲»

$$\lim_{x \rightarrow -1} \sqrt{3x^2 + \Delta x + 2} = \lim_{x \rightarrow (-1)^-} \sqrt{3x^2 + \Delta x + 2} = 0$$

 با توجه به این که $D_f = (-\infty, -1] \cup [-\frac{2}{3}, +\infty)$ ، می‌توان گفت:

$$\log(x-2) \geq 0 \Rightarrow x-2 \geq 1 \Rightarrow x \geq 3 \Rightarrow D_f = [3, +\infty)$$

الف) دامنه‌ی تابع را می‌یابیم:

$$\lim_{x \rightarrow 2^+} \sqrt{\log(x-2)} = \lim_{x \rightarrow 2^+} \sqrt{\log(x-2)} = 0$$

پس حد تابع در نقطه‌ی $x=3$ وجود دارد.

$$\lim_{x \rightarrow 2^+} \frac{|x-2|}{x-2} = \lim_{x \rightarrow 2^+} \frac{x-2}{x-2} = 1, \quad \lim_{x \rightarrow 2^-} \frac{|x-2|}{x-2} = \lim_{x \rightarrow 2^-} \frac{-(x-2)}{x-2} = -1$$

ب) حد چپ و راست تابع را بررسی می‌کنیم:

پس حد تابع در نقطه‌ی $x=2$ وجود ندارد.

$$x^2 - 1 \geq 0 \Rightarrow x^2 \geq 1 \Rightarrow |x| \geq 1 \Rightarrow x \geq 1 \text{ یا } x \leq -1$$

ج) دامنه‌ی تابع را می‌یابیم.

$$x^2 - 1 - \sqrt{x^2 - 1} \geq 0 \Rightarrow \sqrt{x^2 - 1}(\sqrt{x^2 - 1} - 1) \geq 0 \Rightarrow \begin{cases} \sqrt{x^2 - 1} \geq 0 \Rightarrow x = \pm 1 \\ \sqrt{x^2 - 1} - 1 \geq 0 \Rightarrow x^2 \geq 2 \Rightarrow |x| \geq \sqrt{2} \Rightarrow x \geq \sqrt{2} \text{ یا } x \leq -\sqrt{2} \end{cases}$$

در نهایت دامنه‌ی تابع عبارت است از $D_f = (-\infty, -\sqrt{2}] \cup [\sqrt{2}, +\infty) \cup \{-1, 1\}$. بنابراین تابع در نقطه‌ی $x=1$ حد چپ و راست ندارد.

وقتی می‌نویسیم $x \rightarrow \frac{\pi}{3}^+$ یعنی $x > \frac{\pi}{3}$ و در نتیجه $-\frac{3x}{4} < -\frac{\pi}{4}$.

$$\lim_{x \rightarrow \frac{\pi}{3}^+} f\left(-\frac{3x}{4}\right) = \lim_{x \rightarrow (-\frac{\pi}{4})^-} f(x) = \lim_{x \rightarrow (-\frac{\pi}{4})^-} \frac{-a(\sin x + \cos x)}{\sin x + \cos x} + 1 = \lim_{x \rightarrow (-\frac{\pi}{4})^-} (-a+1) = -a+1$$

$$f\left(\frac{\pi}{4}\right) = \frac{\frac{\pi}{4}}{\pi} - 1 = \frac{1}{4} - 1 = -\frac{3}{4}$$

$$-a+1 = -\frac{3}{4} \Rightarrow a = \frac{5}{4}$$

و در نتیجه:

$$\lim_{x \rightarrow 2^-} f(x) = -2$$

تابع f را می‌توان به صورت ساده‌تر $f(x) = \begin{cases} 2 & x > 2 \\ -2 & x < 2 \end{cases}$ نوشت. به این ترتیب داریم:

$$\lim_{x \rightarrow 2^-} f \circ f(x) = \lim_{x \rightarrow 2^-} f(f(x)) = f(-2) = -2$$

با توجه به نمودار دو تابع $y = \sin x$ و $y = \cos x$ می‌توان به نتایج زیر رسید:

$$x \rightarrow \frac{\pi}{4}^+ : \sin x > \cos x \Rightarrow \sin x - \cos x > 0$$

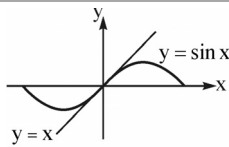
$$x \rightarrow \frac{\pi}{4}^- : \sin x < \cos x \Rightarrow \sin x - \cos x < 0$$

با توجه به نکته‌ی فوق می‌توان حد موردنظر را محاسبه نمود:

$$2 \lim_{x \rightarrow \frac{\pi}{4}^+} f(\sin x - \cos x) - \lim_{x \rightarrow \frac{\pi}{4}^-} f(\sin x - \cos x) = 2 \lim_{x \rightarrow 0^+} f(x) - \lim_{x \rightarrow 0^-} f(x) = 2 \lim_{x \rightarrow 0^+} \left(\frac{3x^2 + |x|}{2|x|} \right) - \lim_{x \rightarrow 0^-} \left(\frac{x^2 - 2|x|}{|x|} \right)$$

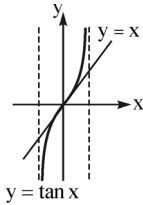
$$= \lim_{x \rightarrow 0^+} \left(\frac{3x^2 + x}{x} \right) - \lim_{x \rightarrow 0^-} \left(\frac{x^2 + 2x}{-x} \right) = \lim_{x \rightarrow 0^+} (3x+1) + \lim_{x \rightarrow 0^-} (x+2) = 1+2 = 3$$

۳۳- گزینه‌ی «۱»



با توجه به مقایسه‌ی نمودارهای توابع $y = \sin x$ و $y = \tan x$ می‌توان به نتایج زیر رسید:

$$x \rightarrow 0^+ : \begin{cases} \sin x < x \\ x < \tan x \end{cases} \Rightarrow \sin x < x < \tan x$$



$$x \rightarrow 0^- : \begin{cases} x < \sin x \\ \tan x < x \end{cases} \Rightarrow \tan x < x < \sin x$$

$$\begin{aligned} & \lim_{x \rightarrow 0^+} f(\sin x - \tan x) - \lim_{x \rightarrow 0^-} f(\sin x - \tan x) = \lim_{x \rightarrow 0^-} f(x) - \lim_{x \rightarrow 0^+} f(x) \\ & = \lim_{x \rightarrow 0^-} 2(\tan \pi x - \cos x) - \lim_{x \rightarrow 0^+} (\sin \pi x - \cos x) = -4 + 1 = -3 \end{aligned}$$

در نتیجه:

۳۴- گزینه‌ی «۳»

$$\lim_{x \rightarrow 0^+} f(f(f(\sin x - \tan x))) = f(f(f(0^-))) = f(f(-1)) = f(2) = 1$$

دقت کنید هنگامی که $x \rightarrow 0^+$ داریم $\sin x < x < \tan x$. پس در $x \rightarrow 0^+$ نامساوی $\sin x < \tan x$ و در نتیجه $\sin x - \tan x < 0$ برقرار است.

۳۵- گزینه‌ی «۳»

در تابع $\frac{g}{f}$ چون $\lim_{x \rightarrow 0^+} f(x) = 0$ ، حد راست وجود ندارد. پس در کل حد ندارد.

$$\text{در تابع } (f+g)(x) = \begin{cases} \sin^2 2x - 1 & x \geq 0 \\ \cos^2 3x + 2x & x < 0 \end{cases}, \text{ چون } \lim_{x \rightarrow 0^+} (f+g)(x) = -1 \text{ و } \lim_{x \rightarrow 0^-} (f+g)(x) = 1, \text{ حد وجود ندارد.}$$

$$\text{در تابع } (f-g)(x) = \begin{cases} \sin^2 2x + 1 & x \geq 0 \\ \cos^2 3x - 2x & x < 0 \end{cases}, \text{ چون } \lim_{x \rightarrow 0^+} (f-g)(x) = 1 \text{ و } \lim_{x \rightarrow 0^-} (f-g)(x) = 1, \text{ تابع در نقطه‌ی صفر دارای حد است.}$$

$$\text{در تابع } (f \cdot g)(x) = \begin{cases} -\sin^2 2x & x \geq 0 \\ 2x \cos^2 3x & x < 0 \end{cases}, \text{ چون } \lim_{x \rightarrow 0^+} (f \cdot g)(x) = 0 \text{ و } \lim_{x \rightarrow 0^-} (f \cdot g)(x) = 0, \text{ تابع در نقطه‌ی صفر دارای حد است.}$$

بنابراین دو تابع $f-g$ و $f \cdot g$ در نقطه‌ی صفر حد دارند.

۳۶- گزینه‌ی «۲»

$$\lim_{x \rightarrow 1} \sqrt{\log x} = \lim_{x \rightarrow 1^+} \sqrt{\log x} = 0$$

در ۱ داریم:

$$\lim_{x \rightarrow 1} \frac{1}{\sqrt{1-x^2}} = \lim_{x \rightarrow 1^-} \frac{1}{\sqrt{1-x^2}} = \frac{1}{0^+} = +\infty \quad \checkmark$$

در ۲ داریم:

$$\lim_{x \rightarrow 1} \sqrt{\sin(x-1)} = \lim_{x \rightarrow 1^+} \sqrt{\sin(x-1)} = 0$$

در ۳ داریم:

$$\lim_{x \rightarrow 1} 2^{x-1} = 2^0 = 1$$

در ۴ داریم:

۳۷- گزینه‌ی «۲»

$$\lim_{x \rightarrow 0} \sqrt{\sin x - \tan x} = \lim_{x \rightarrow 0^-} \sqrt{\sin x - \tan x} = 0$$

در ۱ داریم:

در ۲ برای محاسبه‌ی $\lim_{x \rightarrow 1} \sqrt{x-1} - \sqrt{x-1}$ ابتدا دامنه‌ی تابع $f(x) = \sqrt{x-1} - \sqrt{x-1}$ را می‌یابیم.

$$\begin{cases} x-1-\sqrt{x-1} \geq 0 \Rightarrow \sqrt{x-1}(\sqrt{x-1}-1) \geq 0 \Rightarrow \begin{cases} x-1=0 \Rightarrow x=1 \\ \sqrt{x-1}-1 \geq 0 \Rightarrow x-1 \geq 1 \Rightarrow x \geq 2 \end{cases} \\ x-1 \geq 0 \Rightarrow x \geq 1 \end{cases}$$

از اشتراک بازه‌ها خواهیم داشت $D_f = [2, +\infty) \cup \{1\}$. پس تابع در نقطه‌ی $x=1$ مقدار دارد ولی حد ندارد. زیرا در سمت چپ و راست نقطه‌ی $x=1$ تابع تعریف نشده است.

$$\lim_{x \rightarrow 1^+} \log_x 1 = \lim_{x \rightarrow 1^-} \log_x 1 = 0$$

در ۳ می‌دانیم لگاریتم عدد یک به هر مبنایی برابر صفر است. پس:

در ۴ ابتدا دامنه‌ی تابع را می‌یابیم:

$$\begin{cases} x+1 > 0 \\ x > 0 \\ x \neq 1 \end{cases} \xrightarrow{\text{اشتراک}} D_f = (0, +\infty) - \{1\}$$

$$\lim_{x \rightarrow 0} \log_x (x+1) = \lim_{x \rightarrow 0^+} \log_x (x+1) = 0$$

پس:

۳۸- گزینه‌ی «۳»

چون تابع f در نقطه‌ی $x=1$ و تابع g در نقطه‌ی $x=2$ دارای حد هستند، خواهیم داشت:

$$\begin{cases} \lim_{x \rightarrow 1^+} f(x) = 3-1=2 \\ \lim_{x \rightarrow 1^-} f(x) = a+b \end{cases} \Rightarrow a+b=2$$

$$\begin{cases} \lim_{x \rightarrow 2^+} g(x) = 2a-4 \\ \lim_{x \rightarrow 2^-} g(x) = 4+2b \end{cases} \Rightarrow 2a-4=4+2b \Rightarrow 2a-2b=8 \Rightarrow a-b=4$$

حال با حل دستگاه دو معادله، دو مجهول $\begin{cases} a+b=2 \\ a-b=4 \end{cases}$ می‌توان نوشت $a=3$ و $b=-1$.

با توجه به مقادیر محاسبه‌شده، هر یک از گزینه‌ها را بررسی می‌کنیم:

$$1 \quad \begin{cases} \lim_{x \rightarrow 3^+} h(x) = \lim_{x \rightarrow 3^+} \left(\frac{ax}{3} + b \right) = \frac{9}{3} - 1 = \frac{2}{3} \\ \lim_{x \rightarrow 3^-} h(x) = \lim_{x \rightarrow 3^-} (2x - a) = 6 - 3 = 3 \end{cases}$$

$$2 \quad \begin{cases} \lim_{x \rightarrow 3^+} h(x) = \lim_{x \rightarrow 3^+} (2ax + 3b) = 18 - 3 = 15 \\ \lim_{x \rightarrow 3^-} h(x) = \lim_{x \rightarrow 3^-} (ax^2 + bx) = 27 - 3 = 24 \end{cases}$$

$$3 \quad \begin{cases} \lim_{x \rightarrow 3^+} h(x) = \lim_{x \rightarrow 3^+} (ax + bx) = 9 - 3 = 6 \\ \lim_{x \rightarrow 3^-} h(x) = \lim_{x \rightarrow 3^-} |bx - a| = |-3 - 3| = 6 \end{cases}$$

$$4 \quad \begin{cases} \lim_{x \rightarrow 3^+} h(x) = \lim_{x \rightarrow 3^+} (2ax + |x|) = 18 + 3 = 21 \\ \lim_{x \rightarrow 3^-} h(x) = \lim_{x \rightarrow 3^-} (2ax + bx) = 18 - 3 = 15 \end{cases}$$

همان‌طور که از محاسبات فوق برمی‌آید فقط تابع ۳ در نقطه‌ی $x=3$ دارای حد است.