



# حسابان

(جلد دوم)

سال سوم رشته ریاضی

ویژه دانستی آموزان ممتاز



مؤلفین:


حسین شفیعی زاده

حمیدرضا کریمی

علی یوسفی



انتشارات خورشید



# فهرست مطالب

## ۱ ..... حد و پیوستگی

۲۸	پیوستگی	۱	همسایگی
۳۳	پیوستگی تابع جزء صحیح	۱	همسایگی محذوف
۳۶	قضیه های پیوستگی	۲	همسایگی یک طرفه
۴۱	مسائل نمونه ی فصل چهارم	۳	تعریف و مفهوم حد
۴۶	پاسخ تشریحی مسائل نمونه ی فصل چهارم	۴	تعریف حد
۸۲	تمرینات فصل چهارم	۳	حد چپ و حد راست
۸۵	پرسش های چهارگزینه ای فصل چهارم	۱۱	قضیه های حد
۱۱۳	پاسخ تشریحی پرسش های چهارگزینه ای فصل چهارم	۱۸	محاسبه حد در حالت $\frac{0}{0}$
		۲۰	هم ارزی

## ۱۵۹ ..... مشتق توابع

۱۸۹	توابع صعودی و نزولی	۱۵۹	تعریف و مفهوم مشتق و مشتق پذیری
۱۹۲	کاربرد مشتق در تعیین یکنوایی	۱۶۲	مشتق چپ و راست
۱۹۶	شدت صعود و نزول	۱۶۴	رابطه ی بین مشتق پذیری و پیوستگی
۱۹۷	آهنگ تغییرات (از لحاظ فیزیکی)	۱۶۵	مشتق پذیری توابع جزء صحیح
۲۰۰	آهنگ تغییرات	۱۶۷	تابع مشتق
۲۰۲	آهنگ تغییرات و کمیت های وابسته	۱۶۷	قضیه های مشتق
۲۰۶	مشتق تابع وارون	۱۷۰	فرمول های مشتق
۲۰۹	مشتق توابع وارون مثلثاتی	۱۷۳	مشتق پذیری توابع قدرمطلق
۲۱۲	مسائل نمونه ی فصل پنجم	۱۷۵	مشتق تابع مرکب
۲۲۱	پاسخ تشریحی مسائل نمونه ی فصل پنجم	۱۷۶	فرمول های مشتق در حالت کلی
۲۸۹	تمرینات فصل پنجم	۱۷۹	مشتق تابع زوج و فرد
۲۹۴	پرسش های چهارگزینه ای فصل پنجم	۱۸۰	خط مماس و قائم
۳۲۱	پاسخ تشریحی پرسش های چهارگزینه ای فصل پنجم	۱۸۴	رسم مماس بر منحنی از نقطه ی واقع در خارج منحنی
		۱۸۶	رسم قائم بر منحنی از نقطه ی خارج منحنی

۴۰۳	پیوست ۳. سؤالات امتحان نهایی سنوات اخیر	۳۶۵	پیوست ۱. سؤالات کنکور سنوات اخیر (برای دوران جمع بندی)
۴۲۹	پیوست ۴. سؤالات امتحان نهایی تألیفی	۳۹۷	پیوست ۲. آزمون جامع تستی

## حد و پیوستگی



### همسایگی



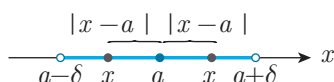
بازه‌ی  $(a - \delta, a + \delta)$  را یک همسایگی متقارن  $a$  به شعاع  $\delta$  و یا به طور خلاصه یک همسایگی  $a$  می‌نامند ( $\delta$  عددی مثبت است). هر نقطه از این همسایگی فاصله‌اش از  $a$  کمتر از  $\delta$  است.



شکل ۱-۴

هر نقطه داخل همسایگی  $a$  دارای این خاصیت است که فاصله‌اش از  $a$  کمتر از  $\delta$  است، به بیان دیگر هر نقطه  $x$  از همسایگی  $a$  در نامساوی  $|x - a| < \delta$  صدق می‌کند و برعکس.

نکته ۱



شکل ۲-۴

### همسایگی محذوف



اگر عدد  $a$  را از همسایگی حذف کنیم، آن را یک همسایگی محذوف  $a$  می‌نامیم.

شکل ۳-۴

همسایگی محذوف  $a$  را به صورت‌های  $(a - \delta, a + \delta) - \{a\}$  یا  $(a - \delta, a) \cup (a, a + \delta)$  و یا  $|x - a| < \delta$  می‌توان نشان داد.

چند عدد صحیح در همسایگی محذوف ۳ به شعاع  $\frac{5}{3}$  وجود دارد؟

مثال ۱

**حل** همسایگی خواسته شده به صورت  $(3 - \frac{5}{3}, 3 + \frac{5}{3}) - \{3\}$  و یا  $(\frac{4}{3}, \frac{14}{3}) - \{3\}$  می‌باشد. اعداد صحیح ۱، ۲، ۴، ۵ در این همسایگی محذوف قرار دارند. (توجه به شکل ۴-۴)

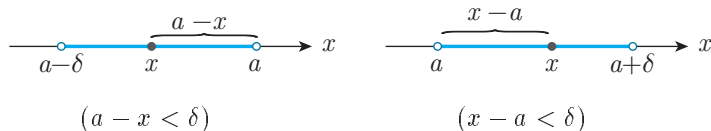
شکل ۴-۴



## همسایگی یک طرفه



بازه‌ی  $(a - \delta, a)$  را که  $\delta$  یک عدد مثبت است یک همسایگی (محذوف) چپ  $a$  و بازه‌ی  $(a, a + \delta)$  را یک همسایگی (محذوف) راست  $a$  می‌نامیم.



شکل ۴-۶

شکل ۴-۵

به‌طور مثال تابع  $y = \sqrt{4 - x^2}$  در یک همسایگی راست ۲- و در یک همسایگی چپ ۲+ تعریف شده است و یا تابع  $y = \sqrt{x - 1}$  در یک همسایگی راست ۱ تعریف شده است ولی در همسایگی چپ ۱ تعریف شده نیست.

فرض کنید:  $f(x) = \frac{4x^2 - x - 3}{x - 1}$ ، به ازای چه مقادیری از  $x$  رابطه‌ی  $|f(x) - 7| < \frac{4}{100}$  برقرار است؟  $(x \neq 1)$

مثال ۲

حل

$$\begin{aligned} |f(x) - 7| < \frac{4}{100} &\Rightarrow \left| \frac{4x^2 - x - 3}{x - 1} - 7 \right| < \frac{4}{100} \\ &\Rightarrow \left| \frac{4x^2 - 8x + 4}{x - 1} \right| < \frac{4}{100} \Rightarrow \left| \frac{4(x - 1)^2}{x - 1} \right| < \frac{4}{100} \\ &\Rightarrow |4(x - 1)| < \frac{4}{100} \Rightarrow |x - 1| < \frac{1}{100} \\ &\Rightarrow \frac{-1}{100} < x - 1 < \frac{1}{100} \Rightarrow 0,99 < x < 1,01 \end{aligned}$$

یعنی  $x$  در یک همسایگی محذوف ۱ (به شعاع  $0,01$ ) قرار دارد.

کدام تابع زیر در یک همسایگی راست ۱ تعریف شده است، ولی در هیچ همسایگی چپ ۱ تعریف شده نیست؟

تست ☐ ☐ ☐ ☐

$$y = \frac{\sqrt{1 - x^2}}{[x]} \quad (۴) \quad y = \frac{\sqrt{1 - x^2}}{[-x]} \quad (۳) \quad y = \frac{\sqrt{x^2 - 1}}{[x]} \quad (۲) \quad y = \frac{\sqrt{x^2 - 1}}{1 - [x]} \quad (۱)$$

حل ☐ ۱ ☒ ۲ ☐ ۳ ☐ ۴

گزینه‌ی ۱: دامنه‌ی این تابع به‌صورت زیر است:

$$\begin{cases} x^2 - 1 \geq 0 \Rightarrow x \leq -1 \text{ یا } x \geq 1 \\ 1 - [x] \neq 0 \Rightarrow [x] \neq 1 \Rightarrow x < 1 \text{ یا } x \geq 2 \end{cases}$$

$$\Rightarrow \text{دامنه} = (-\infty, -1] \cup [2, +\infty)$$

این تابع در همسایگی راست ۱ تعریف شده نیست. یعنی دامنه تابع شامل یک همسایگی راست ۱ نیست. گزینه‌ی ۲: دامنه‌ای این تابع به‌صورت زیر است:

شکل ۴-۷

$$\begin{cases} x^2 - 1 \geq 0 \Rightarrow x \leq -1 \text{ یا } x \geq 1 \\ [x] \neq 0 \Rightarrow x < 0 \text{ یا } x \geq 1 \end{cases}$$

$$\Rightarrow \text{دامنه} = (-\infty, -1] \cup [1, +\infty)$$

این تابع در همسایگی راست ۱ تعریف شده و در همسایگی چپ ۱ تعریف نشده است. در گزینه‌های ۳ و ۴، تابع در همسایگی راست ۱ تعریف شده نیست.

شکل ۴-۸

## تعریف و مفهوم حد



تابع  $f(x) = 2x + 1$  را در نظر بگیرید. فرض کنید  $x$  در یک همسایگی محذوف ۲ قرار دارد. هر چه مقدار  $x$  را به ۲ (از دو طرف) نزدیک تر کنیم مقدار  $f(x)$  به ۵ نزدیک تر می شود. در جدول زیر مقدار  $f(x)$  به ازای مقادیر مختلف  $x$  نشان داده شده است.

شکل ۹-۴

$x$	۱/۹	۱/۹۹	۱/۹۹۹	$\rightarrow$	۲	$\leftarrow$	۲/۰۰۱	۲/۰۱	۲/۱
$f(x)$	۴/۸	۴/۹۸	۴/۹۹۸	$\rightarrow$	۵	$\leftarrow$	۵/۰۰۲	۵/۰۲	۵/۲

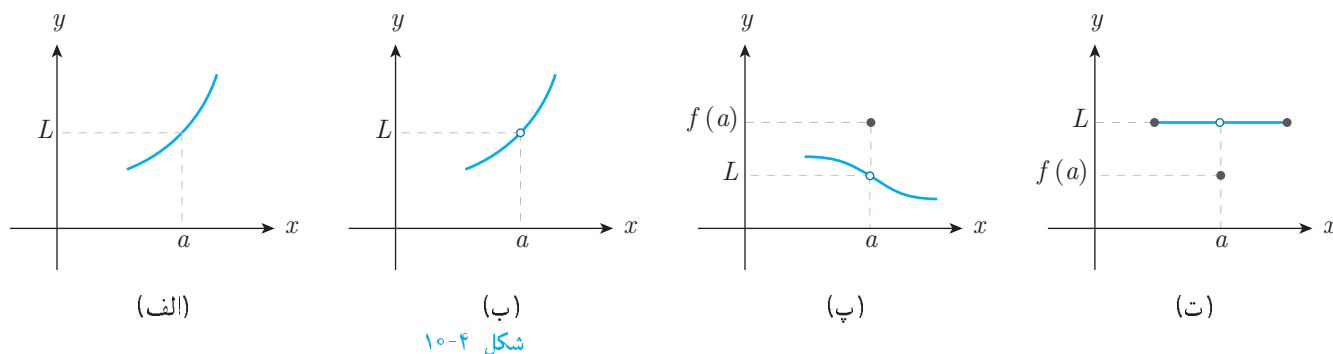
در دستگاه مختصات نیز می توان نزدیک شدن  $f(x)$  به ۵ را در اثر نزدیک شدن  $x$  به ۲ مشاهده نمود. هر چه  $x$  روی محور  $x$  ها در همسایگی محذوف ۲ به عدد ۲ نزدیک تر شود مقدار  $y$  روی محور  $y$  ها به ۵ نزدیک و نزدیک و نزدیک تر می شود. در این حالت گوییم حد تابع  $f(x)$  وقتی  $x$  به ۲ میل می کند برابر ۵ است و به صورت  $\lim_{x \rightarrow 2} f(x) = 5$  نشان می دهیم.

## تعریف حد



گوییم  $\lim_{x \rightarrow a} f(x) = L$  هرگاه فاصله  $f(x)$  از  $L$ ، از هر مقداری که انتخاب کنیم کوچک تر شود، به شرط آن که  $x$  در دامنه، به اندازه ی کافی به  $a$  نزدیک شود.

به بیان «خودمونی» اگر  $x$  را در یک همسایگی محذوف  $a$  (در دامنه  $f$ ) از دو طرف به  $a$  نزدیک کنیم و مشاهده کنیم  $f(x)$  به عدد  $L$  نزدیک تر می شود حد تابع  $f$  در نقطه ی  $a$  را  $L$  گوییم و می نویسیم  $\lim_{x \rightarrow a} f(x) = L$ . در تمام نمودارهای زیر حد تابع  $f$  در نقطه ی  $a$  برابر  $L$  است.



شکل ۱۰-۴

ممکن است در نقطه ی  $a$  تابع  $f$  تعریف نشده باشد و یا  $f(a)$  موجود باشد ولی با  $L$  برابر نباشد. در واقع وجود و یا عدم وجود و حتی مقدار  $f(a)$ ، در وجود و یا عدم وجود حد  $f$  در نقطه ی  $a$  و یا مقدار حد  $f$  در نقطه ی  $a$  هیچ تأثیری ندارد.

تذکر

## حد چپ و حد راست



اگر در یک همسایگی چپ  $a$  (در دامنه  $f$ ) مقدار  $x$  به  $a$  نزدیک شود و مقدار  $f(x)$  به عدد  $L$  نزدیک شود گوییم در نقطه ی  $a$  حد چپ دارد و به صورت  $\lim_{x \rightarrow a^-} f(x) = L$  نشان می دهیم و اگر در یک همسایگی راست  $a$  (در دامنه  $f$ ) مقدار  $x$  به  $a$  نزدیک شود و در نتیجه ی آن مقدار  $f(x)$  به  $L$  نزدیک شود، گوییم  $f$  در نقطه ی  $a$  حد راست دارد و به صورت  $\lim_{x \rightarrow a^+} f(x) = L$  نشان می دهیم. در واقع حد چپ  $f$  در نقطه ی  $a$  زمانی برابر  $L$  است که هر چه مقدار  $x$  از مقادیر کمتر از  $a$  به  $a$  نزدیک تر شود مقدار  $f(x)$  به  $L$  نزدیک تر شود و زمانی حد راست  $f$  در نقطه ی  $a$  برابر  $L$  است که هر چه مقدار  $x$  از مقادیر بیشتر از  $a$  به  $a$  نزدیک تر شود مقدار  $f(x)$  به  $L$  نزدیک تر شود.

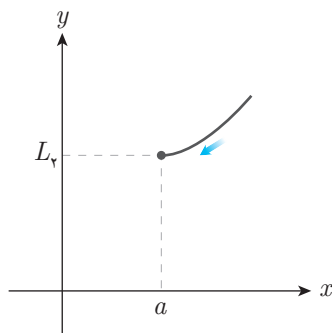
شکل ۱۱-۴

در شکل ۱۱-۴، هر چه  $x$  از سمت راست به  $a$  نزدیک تر شود مقدار  $y$  به  $L_2$  نزدیک تر می شود، پس  $\lim_{x \rightarrow a^+} f(x) = L_2$ ، و هر چه  $x$  از سمت چپ به  $a$  نزدیک تر شود مقدار  $y$  به  $L_1$  نزدیک تر می شود، پس

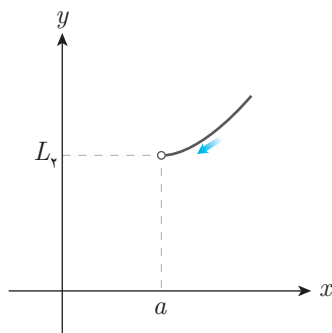
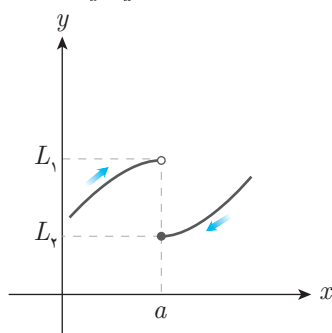


$$\lim_{x \rightarrow a^-} f(x) = L_1$$

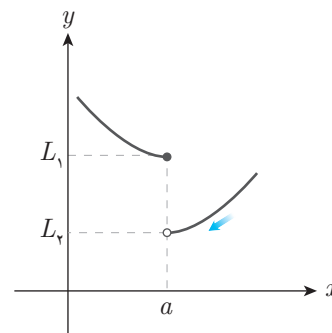
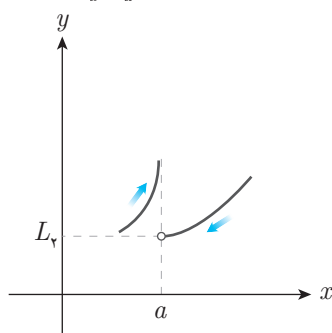
به نمودارهای شکل ۱۲-۴ توجه کنید و مفهوم حد چپ و راست را مشاهده کنید:



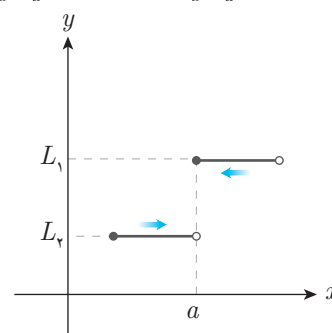
$$\lim_{x \rightarrow a^+} f(x) = L_1$$



$$\lim_{x \rightarrow a^+} f(x) = L_1$$



$$\lim_{x \rightarrow a^+} f(x) = L_1, \lim_{x \rightarrow a^-} f(x) = L_1$$



$$\lim_{x \rightarrow a^+} f(x) = L_1, \lim_{x \rightarrow a^-} f(x) = L_1 \quad \text{وجود ندارد} \quad \lim_{x \rightarrow a^+} f(x) = L_1, \lim_{x \rightarrow a^-} f(x) = L_1$$

شکل ۱۲-۴

مقدار  $a$  را به گونه‌ای بیابید که حد راست تابع  $f(x) = \begin{cases} 2x + 3 & x > 1 \\ 3x + a & x < 1 \end{cases}$  در نقطه‌ی  $x = 1$  از حد چپ آن

مثال ۳

در این نقطه، یک واحد بیشتر باشد.

حل نمودار این تابع به صورت شکل ۱۳-۴ است. مشاهده می‌شود که  $\lim_{x \rightarrow 1^-} f(x) = 3 + a$  و  $\lim_{x \rightarrow 1^+} f(x) = 5$  است. پس  $a = 1$  یا  $5 = (3 + a) + 1$ .

شکل ۱۳-۴

با توجه به شکل ۱۴-۴ مقادیر  $\lim_{x \rightarrow -1^-} f(-x^2)$  و  $\lim_{x \rightarrow 1^+} f(f(x))$  را به دست آورید.

مثال ۴

شکل ۱۴-۴    شکل ۱۵-۴    شکل ۱۶-۴

حل

الف) وقتی  $x \rightarrow 1^+$  مقدار  $f(x)$  از مقادیر بیشتر از ۱ به عدد ۱ نزدیک می‌شود. (شکل ۱۵-۴)  
یعنی  $f(x) \rightarrow 1^+$  بنابراین  $\lim_{x \rightarrow 1^+} f(f(x))$  برابر  $f(1^+)$  است، حاصل  $f(1^+)$  برابر ۱ است. یعنی

$$\lim_{x \rightarrow 1^+} f(f(x)) = 1$$

ب) با توجه به شکل ۱۶-۴، وقتی  $x \rightarrow -1^-$  مقدار  $x$  از  $-1$  کمتر است. پس:

$$x < -1 \Rightarrow x^2 > 1 \Rightarrow -x^2 < -1$$

پس مقدار  $f(t)$  برای مقادیر  $t$  کمتر از  $-1$  را می‌خواهیم:

$$\lim_{x \rightarrow -1^-} f(-x^2) = \lim_{t \rightarrow -1^-} f(t) = -2$$

شرط آن که بتوان در مورد حد چپ یک تابع در نقطه‌ی  $a$  صحبت کرد آن است که، تابع در یک همسایگی چپ  $a$  تعریف شده باشد.

به‌طور مشابه زمانی می‌توان از حد راست یک تابع در نقطه‌ی  $a$  صحبت کرد که تابع در یک همسایگی راست  $a$  تعریف شده باشد.

به‌طور مثال تابع  $y = \sqrt{4 - x^2}$  در یک همسایگی راست  $x = -2$  و یک همسایگی چپ  $x = 2$  تعریف شده است (شکل ۱۷-۴). پس:

$$\lim_{x \rightarrow -2^+} \sqrt{4 - x^2} = 0, \quad \lim_{x \rightarrow 2^-} \sqrt{4 - x^2} = 0$$

## قرارداد مهم



فرض کنید تابع  $f$  فقط در همسایگی راست  $a$  تعریف شده باشد، در این صورت وقتی در مورد حد تابع  $f$  در نقطه‌ی  $a$  صحبت می‌کنیم منظور همان حد راست  $f$  در نقطه‌ی  $a$  است.

به‌طور مشابه اگر  $f$  فقط در یک همسایگی چپ  $a$  تعریف شده باشد، منظور از حد  $f$  در نقطه‌ی  $a$  همان حد چپ  $f$  در نقطه‌ی  $a$  است.

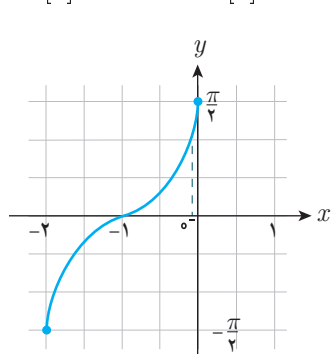
به مثال‌های زیر توجه کنید.

$$\lim_{x \rightarrow 1} \sqrt{x - 1} = \lim_{x \rightarrow 1^+} \sqrt{x - 1} = 0$$

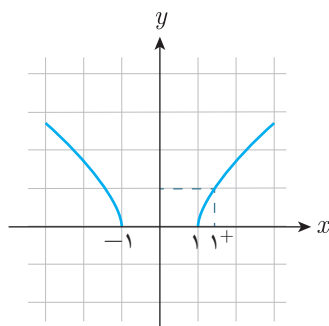
(۱) با توجه به شکل ۱۸-۴ داریم:

$$\lim_{x \rightarrow 1} \frac{1}{[x] - 1} = \lim_{x \rightarrow 1^-} \frac{1}{[x] - 1} = \frac{1}{0 - 1} = -1$$

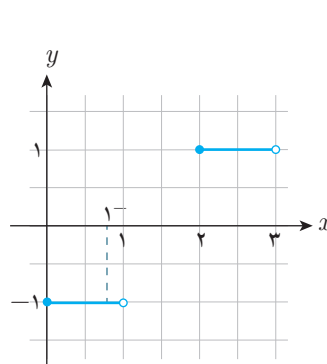
(۲) با توجه به شکل ۱۹-۴ داریم:



شکل ۲۱-۴



شکل ۲۰-۴



شکل ۱۹-۴

$$\lim_{x \rightarrow 1} \sqrt{x^2 - 1} = \lim_{x \rightarrow 1^+} \sqrt{x^2 - 1} = 0$$

(۳) با توجه به شکل ۲۰-۴ داریم:

$$\lim_{x \rightarrow 0} \sin^{-1}(x + 1) = \lim_{x \rightarrow 0^-} \sin^{-1}(x + 1) = \frac{\pi}{2}$$

(۴) با توجه به شکل ۲۱-۴ داریم:

اگر تابع  $f$  در همسایگی محذوف  $a$  تعریف شده باشد آنگاه به شرطی در نقطه‌ی  $a$  حد دارد که حد راست و حد چپ در نقطه‌ی  $a$  موجود و برابر باشند؛ در این صورت حد مشترک چپ و راست همان حد تابع است.

اگر  $f$  در اطراف  $a$  تعریف شده باشد و در نقطه‌ی  $a$  حد چپ و راست متفاوت داشته باشد، آنگاه در نقطه‌ی  $a$  حد ندارد.

اگر  $f$  در همسایگی راست  $a$  (چپ  $a$ ) تعریف شده باشد ولی حد راست (حد چپ) نداشته باشد آنگاه  $f$  در نقطه‌ی  $a$  حد ندارد.

به مثال‌های زیر توجه کنید:

۱. تابع  $y = [x]$  در نقطه‌ی  $x = ۲$  حد ندارد. چون این تابع در اطراف ۲ تعریف شده است و حد چپ و راست دارد، ولی برابر نیستند. (شکل ۲۲-۴)

$$\lim_{x \rightarrow 2^+} [x] = ۲ \quad \lim_{x \rightarrow 2^-} [x] = ۱$$

۲. تابع  $f(x) = \begin{cases} \frac{1}{x} & x > 0 \\ x & x < 0 \end{cases}$  در نقطه‌ی  $x = 0$  حد ندارد چون در اطراف  $x = 0$  تعریف شده است ولی حد راست ندارد: (شکل ۲۳-۴)

$$\lim_{x \rightarrow 0^-} f(x) = \lim_{x \rightarrow 0^-} x = 0$$

$$\lim_{x \rightarrow 0^+} f(x) = \lim_{x \rightarrow 0^+} \frac{1}{x} = \text{حد ندارد}$$

۳. تابع  $y = \sqrt{2-x}$  در نقطه‌ی  $x = ۲$  حد دارد چون این تابع فقط در همسایگی چپ ۲ تعریف شده است پس منظور از حد آن همان حد چپ آن است. (شکل ۲۴-۴)

$$\lim_{x \rightarrow 2} \sqrt{2-x} = \lim_{x \rightarrow 2^-} \sqrt{2-x} = 0$$

شکل ۲۲-۴      شکل ۲۳-۴      شکل ۲۴-۴

۴. تابع  $y = [x]$  با دامنه‌ی  $[۲, ۳]$  در نقاط  $x = ۲$  و  $x = ۳$  حد دارد، چون در نقطه‌ی  $x = ۲$  فقط در یک همسایگی راست آن تعریف شده است، پس منظور از حد آن در نقطه‌ی  $x = ۲$  همان حد راست آن در این نقطه است:

$$\lim_{x \rightarrow 2} [x] = \lim_{x \rightarrow 2^+} [x] = ۲$$

و در نقطه‌ی  $x = ۳$  چون فقط در یک همسایگی چپ آن تعریف شده است، پس منظور از حد آن در نقطه‌ی ۳ همان حد چپ آن در این نقطه است:

$$\lim_{x \rightarrow 3} [x] = \lim_{x \rightarrow 3^-} [x] = ۲$$

دقت کنید تابع  $y = [x]$  با دامنه‌ی  $\mathbb{R}$  در نقاط  $x = ۲$  و  $x = ۳$  حد ندارد چون در اطراف این نقاط تعریف شده و دارای حد چپ و راست متفاوت است.

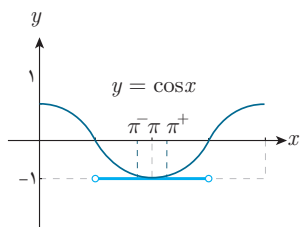
به کمک رسم، حد توابع زیر را بیابید.

مثال ۵

$$\lim_{x \rightarrow \pi} [\cos x] \quad (۳) \quad \lim_{x \rightarrow \frac{\pi}{4}} [\sin x] \quad (۲) \quad \lim_{x \rightarrow \sqrt{3}^+} [x^2] \quad (۱)$$

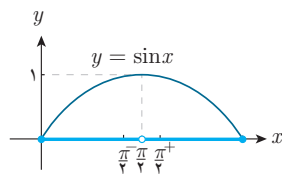
$$\lim_{x \rightarrow \sqrt{3}} \sqrt{x - [x^2]} \quad (۶) \quad \lim_{x \rightarrow 3^-} [x^2 - ۲x] \quad (۵) \quad \lim_{x \rightarrow 3^+} [x^2 - ۲x] \quad (۴)$$





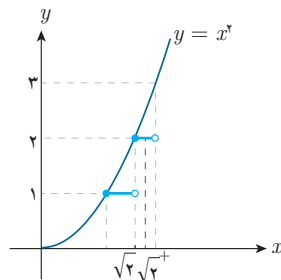
$$\lim_{x \rightarrow \pi} [\cos x] = -1$$

(۳)



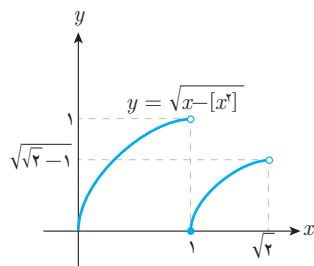
$$\lim_{x \rightarrow \frac{\pi}{4}} [\sin x] = 0$$

(۲)



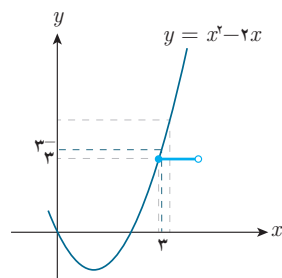
$$\lim_{x \rightarrow \sqrt{2}^+} [x^2] = 2$$

(۱)



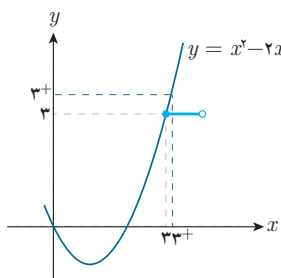
$$\lim_{x \rightarrow \sqrt{2}} f(x) = \lim_{x \rightarrow \sqrt{2}^-} f(x) = \sqrt{\sqrt{2} - 1}$$

(۶)



$$\lim_{x \rightarrow 2^-} [x^2 - 2x] = 2$$

(۵)



$$\lim_{x \rightarrow 2^+} [x^2 - 2x] = 3$$

(۴)

#### شکل ۴-۲۵

حاصل  $\lim_{x \rightarrow \frac{1}{3}^+} [\frac{1}{x}] + \lim_{x \rightarrow \frac{1}{3}^-} [-\frac{2}{x}]$  کدام است؟

تست ☐ ☐ ☐ ☐

(۴) -۱۲

(۳) -۱۳

(۲) -۱۴

(۱) -۱۱

حل ☐ ۱ ☐ ۲ ☒ ۳ ☐ ۴

وقتی  $x = \frac{1}{3}$ ، آنگاه  $\frac{1}{x} = 3$ ، ولی وقتی  $x \rightarrow \frac{1}{3}^+$  آنگاه  $x$  کمی بیش از  $\frac{1}{3}$  است؛ یعنی  $\frac{1}{x} > 3$  و از آنجا  $\frac{1}{x} < 3$  می‌باشد؛ یعنی  $\frac{1}{x}$  کمی کمتر از ۳ است، پس:

$$\lim_{x \rightarrow \frac{1}{3}^+} [\frac{1}{x}] = [3^-] = 2$$

به‌طور مشابه اگر  $x = \frac{1}{3}$ ، آنگاه  $-\frac{2}{x} = -14$ ، ولی چون  $x < \frac{1}{3}$  است پس  $-\frac{2}{x} < -14$ ، به عبارتی  $-\frac{1}{x}$  کمی کمتر از -۱۴ است، پس:

$$\lim_{x \rightarrow \frac{1}{3}^-} [-\frac{2}{x}] = [-14^-] = -15$$

دقت کنید که منظور از  $-14^-$  آن است که داخل براکت کمی کمتر از -۱۴ است. در واقع  $-15 < -14^- < -14$ ، پس:  $[-14^-] = -15$ .  
بنابراین جواب تست برابر -۱۳ است.

تابع  $y = [x]$  در  $x = n$  با فرض صحیح بودن  $n$  به‌صورت زیر است:

نکته ۲



$$\lim_{x \rightarrow n^+} [x] = n, \quad \lim_{x \rightarrow n^-} [x] = n - 1$$

ولی اگر حد  $[x]$  را در نقطه غیر صحیح  $x = a$  خواسته باشیم، داریم:

$$\lim_{x \rightarrow a} [x] = [a]$$



## نکته ۳



در حالت کلی اگر  $f(x)$  یک چندجمله‌ای باشد، به طوری که  $f(a)$  صحیح نباشد، آنگاه:  $\lim_{x \rightarrow a} [f(x)] = [f(a)]$ .

$$\lim_{x \rightarrow \frac{1}{4}} [x^2 - 3x] = \left[ \frac{1}{4} - \frac{3}{4} \right] = -2$$

به طور مثال  $-2$  ولی اگر  $f(a)$  صحیح باشد، آنگاه سه حالت وجود دارد. حالت اول. اگر در اطراف  $a$  تابع  $f$  صعودی باشد، آنگاه:

$$\lim_{x \rightarrow a^+} [f(x)] = f(a) \quad , \quad \lim_{x \rightarrow a^-} [f(x)] = f(a) - 1$$

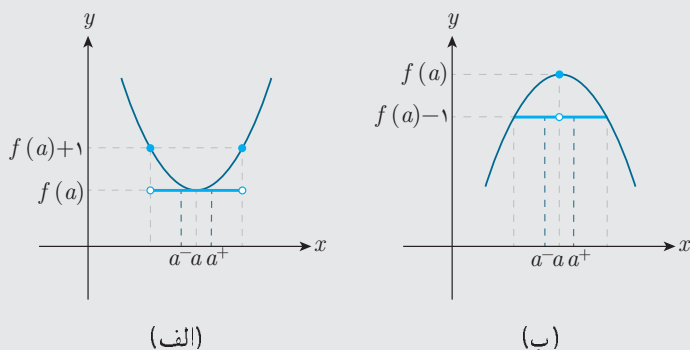
دلیل این مطلب در نمودار ۲۶-۴ مشخص است.

$$\lim_{x \rightarrow 3^-} [x^2 - 2x] = 2 \quad \text{و} \quad \lim_{x \rightarrow 3^+} [x^2 - 2x] = 3$$

به طور مثال  $2$  و  $3$  حالت دوم. اگر در اطراف  $a$  تابع  $f$  نزولی باشد، آنگاه با توجه به نمودار ۲۷-۴ خواهیم داشت:

$$\lim_{x \rightarrow a^+} [f(x)] = f(a) - 1 \quad , \quad \lim_{x \rightarrow a^-} [f(x)] = f(a)$$

حالت سوم: اگر در یک طرف  $a$  تابع  $f$  صعودی و در طرف دیگر نزولی باشد، آنگاه طبق نمودارهای زیر خواهیم داشت:



شکل ۲۸-۴

طبق شکل ۲۸-۴ الف می‌توان نوشت:

$$\lim_{x \rightarrow a} [f(x)] = f(a) - 1$$

و همچنین طبق شکل ۲۸-۴ ب می‌توان نوشت:

$$\lim_{x \rightarrow a} [f(x)] = f(a)$$

به طور مثال:  $\lim_{x \rightarrow \frac{\pi}{4}} [x^2] = 0$  و یا  $\lim_{x \rightarrow \frac{\pi}{4}} [-x^2] = -1$  همچنین:  $\lim_{x \rightarrow \frac{\pi}{4}} [x^2 - 2x] = -1$  و  $\lim_{x \rightarrow \frac{\pi}{4}} [-x^2 + 4x] = 3$ .

حاصل  $\lim_{x \rightarrow \frac{\pi}{4}^+} [3 - \cos x]$  کدام است؟

تست ☐ ☐ ☐ ☐

- (۱) ۳ (۲) ۲ (۳) ۱ (۴) ۰

حل ☐ ۱ ☐ ۲ ☐ ۳ ☐ ۴

اگر  $x = \frac{\pi}{4}$ ، آنگاه  $\cos x = 0$ ، ولی چون وقتی  $x \rightarrow \frac{\pi}{4}^+$ ، آنگاه  $x > \frac{\pi}{4}$  است. پس  $\cos x$  کمی از ۰ کمتر است که با  $0^-$  نمایش می‌دهیم. بنابراین داریم:

$$\lim_{x \rightarrow \frac{\pi}{4}^+} [3 - \cos x] = [3 - 0^-] = [3 + 0^+] = [3^+] = 3$$

