

۱) مانند نمونه انجام دهید.

۳		هشت
۶		نه
۵		سه
۹		پنج
۴		یک
۱		شش
۱۰		ده
۸		هفت
۲		دو
۷		چهار


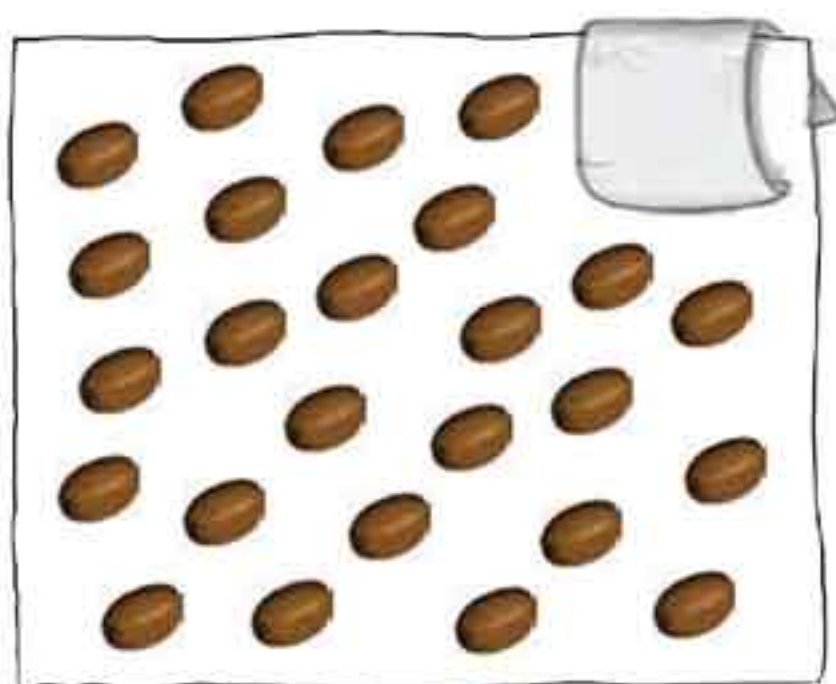
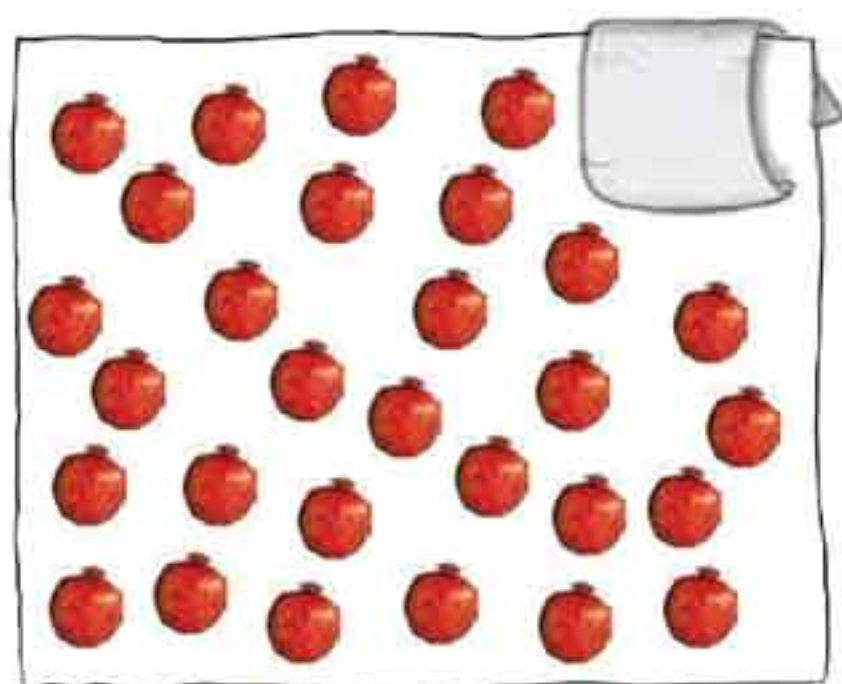




۲ در هر ردیف با توجه به عدد نوشته شده، از گل‌های باغچه رنگ کنید. تعداد گل‌های رنگ نشده را به رقم و حروف بنویسید.




۳ شکل‌های هر قسمت را بشمارید و بنویسید.







۴ مانند نمونه انجام دهید.





۵ هر دو قسمت که یک شکل کامل را می سازند، با خط کش به هم وصل کنید.



۶ هر شکل چه ساعتی را نشان می دهد؟



ساعت ۱



ساعت



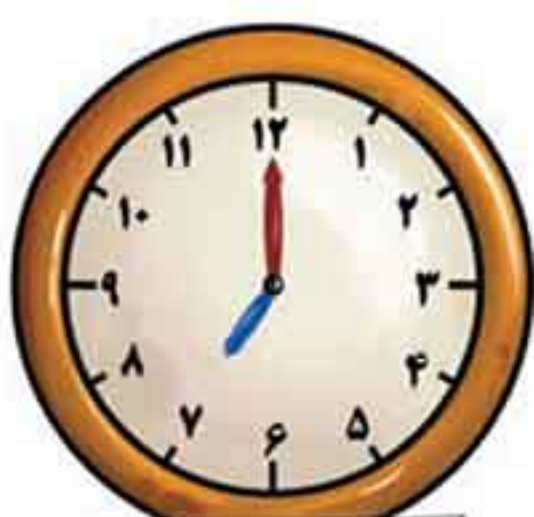
ساعت



ساعت



ساعت



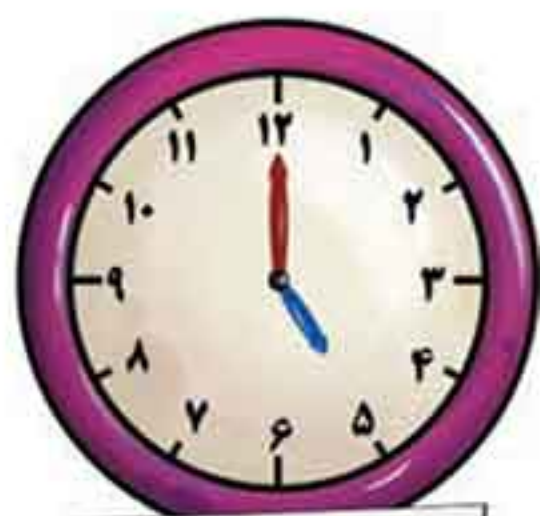
ساعت



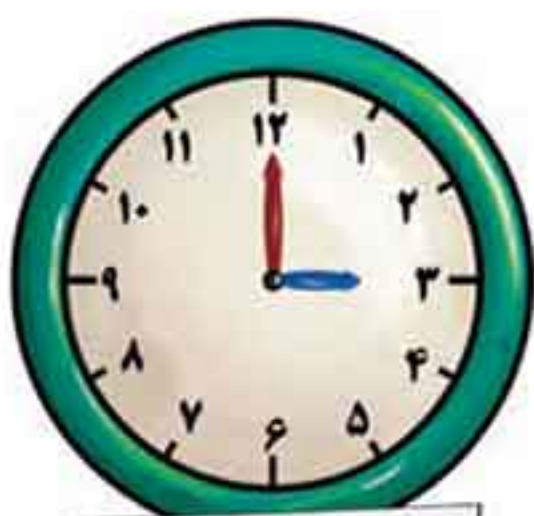
ساعت



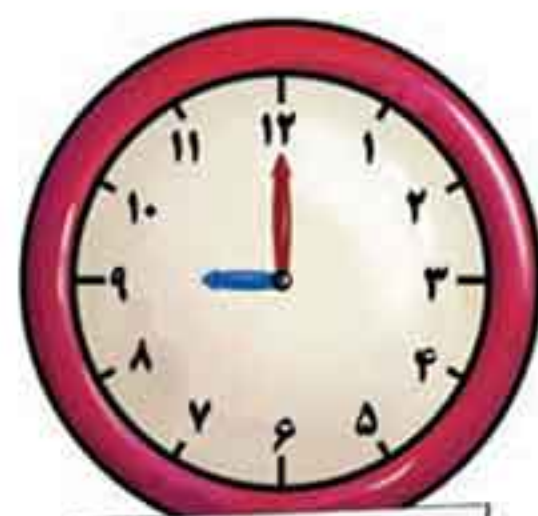
ساعت



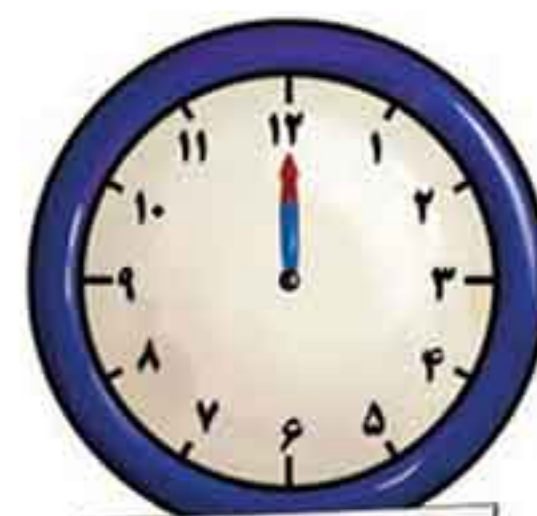
ساعت



ساعت



ساعت



ساعت





۷ مانند نمونه انجام دهید.

۱	دهشت	10
۸	پنج	4
۶	نه	9
۳	یک	5
۷	ده	3
۹	شش	2
۵	سه	8
۲	دو	1
۴	هفت	7
۱۰	چهار	6






۸ جدول شگفت‌انگیز زیر را حل کنید.


۶	۹		۲	۵	۳	۴		۷
۵		۷	۶	۸	۱		۲	۹
۲	۸	۳		۷	۴	۱		۵
۹	۶		۸	۲	۷	۵	۱	
	۱	۵	۴		۹	۲	۷	۸
۷		۸	۳	۱	۵		۹	۴
۸	۵	۶		۳	۲	۹		۱
	۳	۲	۱		۸	۷	۵	۶
۱	۷	۹	۵	۴		۸	۳	

۹ در جاهای خالی عددهای مناسب بنویسید و عبارت را از دو طرف بخوانید.



<

<



>

>

۱۰ بین هر دو عدد علامت (<=>) بگذارید و عبارت را بخوانید.



۸ ○ ۹

۶ ○ ۸

۶ ○ ۳

۷ ○ ۴

۷ ○ ۷

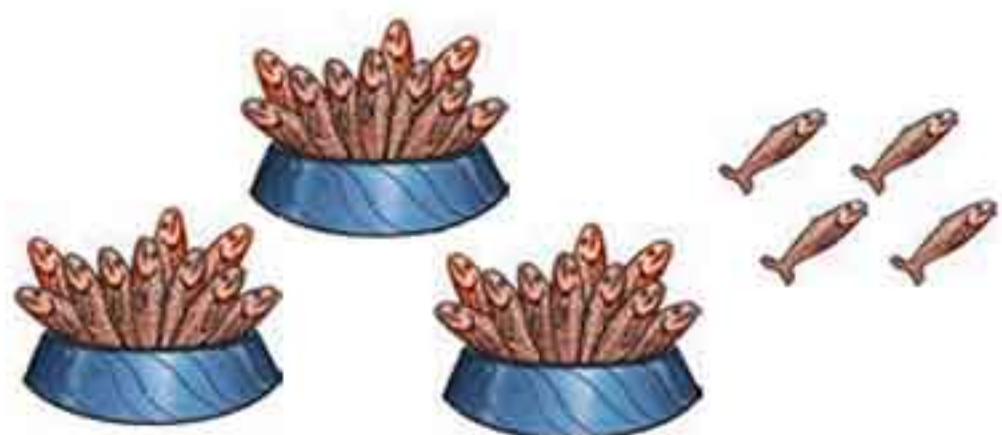
۸ ○ ۶








۱۱ در هر جای خالی عدد مناسب بنویسید.



یکی	دهتایی

\_\_\_\_\_ یکی و \_\_\_\_\_ دهتایی

\_\_\_\_\_ به رقم \_\_\_\_\_ به حروف



یکی	دهتایی

\_\_\_\_\_ یکی و \_\_\_\_\_ دهتایی

\_\_\_\_\_ به رقم \_\_\_\_\_ به حروف



یکی	دهتایی

\_\_\_\_\_ یکی و \_\_\_\_\_ دهتایی

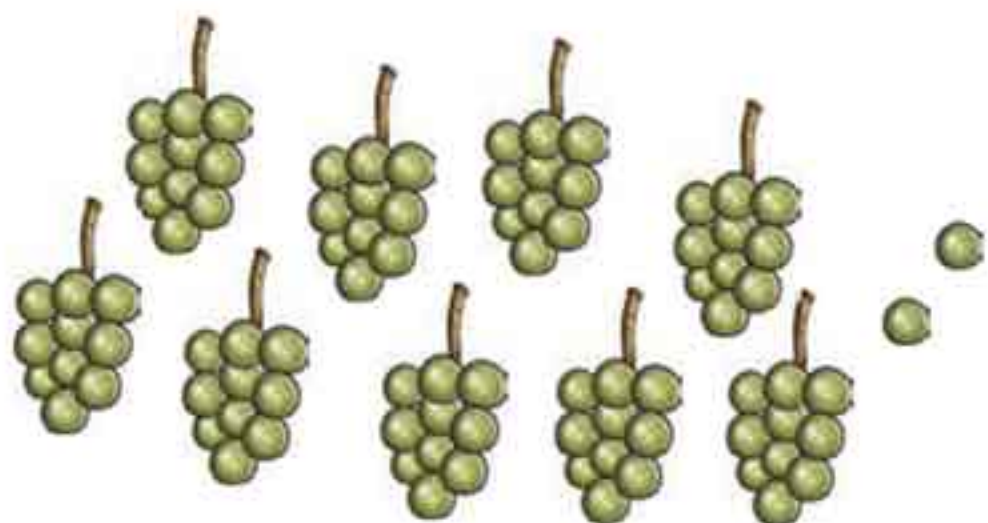
\_\_\_\_\_ به رقم \_\_\_\_\_ به حروف



یکی	دهتایی

\_\_\_\_\_ یکی و \_\_\_\_\_ دهتایی

\_\_\_\_\_ به رقم \_\_\_\_\_ به حروف



یکی	دهتایی

\_\_\_\_\_ یکی و \_\_\_\_\_ دهتایی

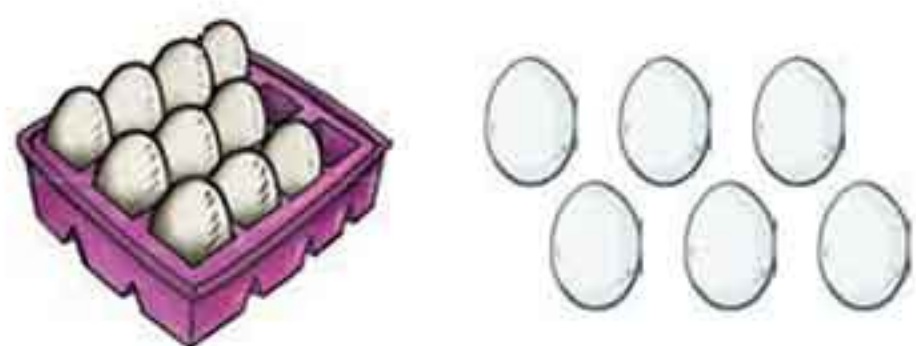
\_\_\_\_\_ به رقم \_\_\_\_\_ به حروف



یکی	دهتایی

\_\_\_\_\_ یکی و \_\_\_\_\_ دهتایی

\_\_\_\_\_ به رقم \_\_\_\_\_ به حروف



یکی	دهتایی

\_\_\_\_\_ یکی و \_\_\_\_\_ دهتایی

\_\_\_\_\_ به رقم \_\_\_\_\_ به حروف





۱۲ مانند نمونه انجام دهید.

۹۳	•	۵۶ برابر است با ۶ یکی و ۵ دهتایی
۴۸	•	۷۴ برابر است با _____ یکی و _____ دهتایی
۸۶	•	۶۰ برابر است با _____ یکی و _____ دهتایی
۷۴	•	۲۷ برابر است با _____ یکی و _____ دهتایی
۵۶	•	۱۹ برابر است با _____ یکی و _____ دهتایی
۶۰	•	۸۶ برابر است با _____ یکی و _____ دهتایی
۱۹	•	۴۸ برابر است با _____ یکی و _____ دهتایی
۲۷	•	۹۳ برابر است با _____ یکی و _____ دهتایی

۱۳ عددی که دهتایی آن‌ها (۷، ۳، ۴) است را رنگ کنید. بقیه‌ی عددها را از کم‌تر به بیش‌تر بنویسید.

۳۸	۴۶	۹۳	۸۰	۷۲	۸۷	۹۹	۳۶	۴۰	۷۵	۸۵	۴۷
۷۱	۷۳	۴۹	۳۵	۸۴	۴۶	۸۲	۸۹	۴۸	۹۰	۳۲	۹۷

۱۴ عددها را از کم‌تر به بیش‌تر مرتب کنید.

۶۹	۷۱	۴۳	۵۹	۷۴	۳۱	۲۷	۸۰	۱۹	۶۴







۱۵) عددها را از بیش‌تر به کم‌تر مرتب کنید.



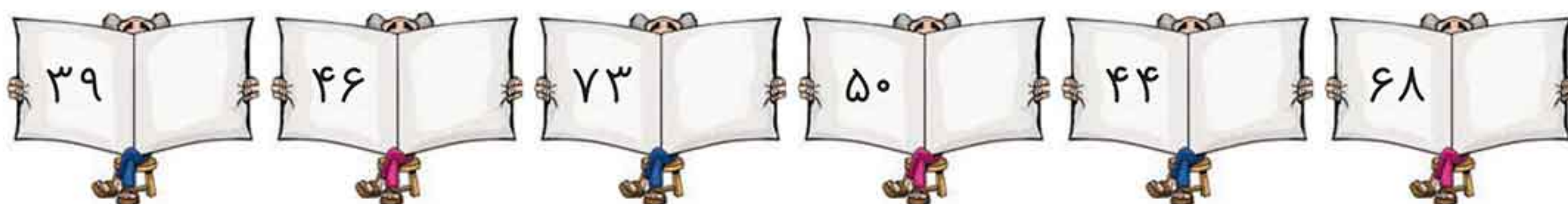
۱۶) چهار عدد کم‌تر از ۵۹ بنویسید.




۱۷) چهار عدد بیش‌تر از ۷۶ بنویسید.



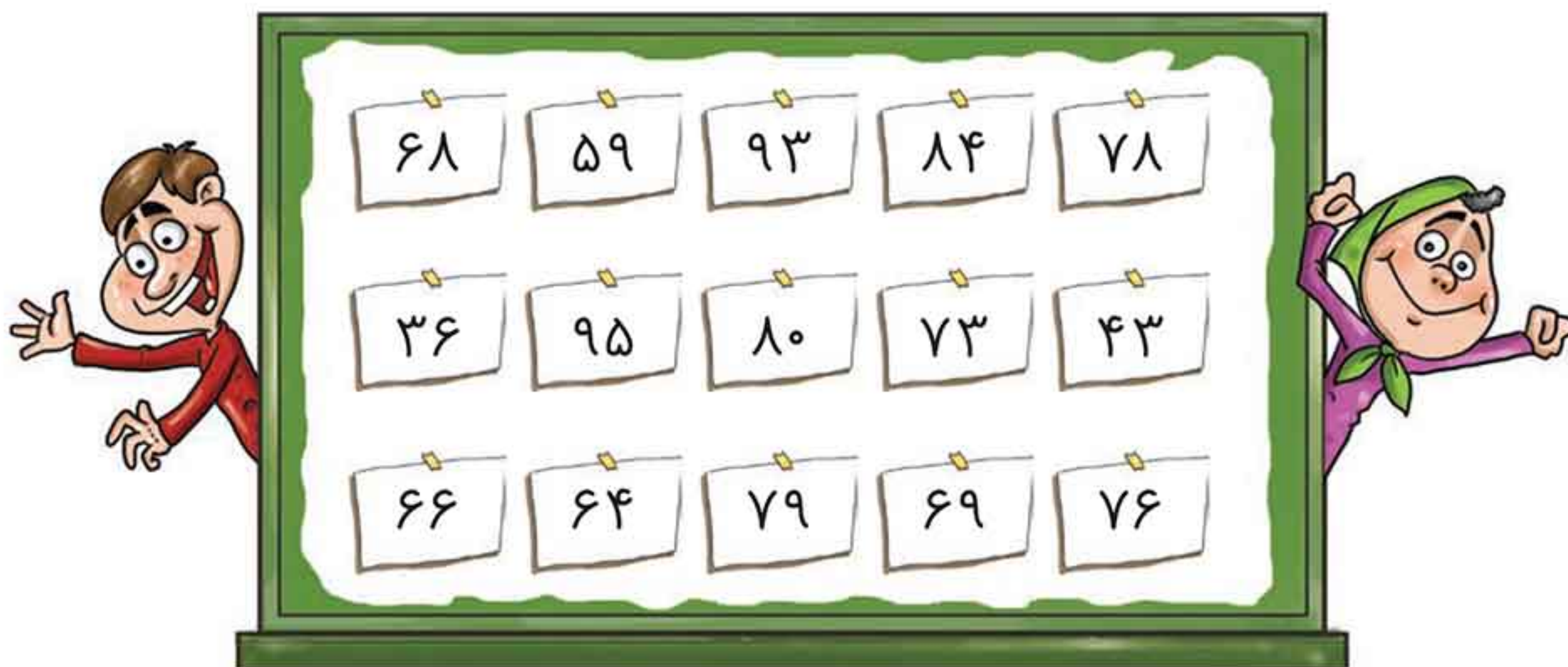
۱۸) عدد بعد از عدد نوشته شده را بنویسید.



۱۹) عدد قبل از عدد نوشته شده را بنویسید.



۲۰) عددهای بیش‌تر از ۶۵ را رنگ کنید.





۲۱ مانند نمونه بقیه‌ی عددها را کامل کنید.

۱۰ ده	۱۱	دوازده	سیزده
۱۴	۱۵	۱۶	هفده
هیجده	۱۹	بیست	بیست و یک
۲۲	۲۳	۲۴	۲۵
بیست و شش	۲۷	بیست و هشت	بیست و نه
۳۰	سی و یک	۳۲	۳۳
۳۴	سی و پنج	۳۶	۳۷
۳۸	سی و نه	چهل	چهل و یک
۴۲	۴۳	۴۴	چهل و پنج
چهل و شش	۴۷	۴۸	چهل و نه






۲۲ مانند نمونه، بقیه‌ی عددها را کامل کنید.

۵۰ پنجاه	۵۱ پنجاه و دو	۵۲ پنجاه و سه	۵۳ پنجاه و چهار	۵۴ پنجاه و پنج
۵۵ پنجاه و شش	۵۶ پنجاه و هفت	۵۷ پنجاه و هشت	۵۸ پنجاه و نه	۵۹ پنجاه و ده
۶۰ شصت	۶۱ شصت و یک	۶۲ شصت و دو	۶۳ شصت و سه	۶۴ شصت و چهار
۶۵ شصت و پنج	۶۶ شصت و شش	۶۷ شصت و هفت	۶۸ شصت و هشت	۶۹ شصت و نه
۷۰ هفتاد	۷۱ هفتاد و یک	۷۲ هفتاد و دو	۷۳ هفتاد و سه	۷۴ هفتاد و چهار
۷۵ هفتاد و پنج	۷۶ هفتاد و شش	۷۷ هفتاد و هفت	۷۸ هفتاد و هشت	۷۹ هفتاد و نه
۸۰ هشتاد	۸۱ هشتاد و یک	۸۲ هشتاد و دو	۸۳ هشتاد و سه	۸۴ هشتاد و چهار







۲۳ عدد مربوط به هر شکل را بنویسید. هر عدد چند رقم دارد؟ رقم‌های آن را بنویسید.

عدد _____ رقم _____ دارد.	عدد _____ رقم _____ دارد.	عدد _____ رقم _____ دارد.
رقم‌های آن _____ و _____ هستند.	رقم‌های آن _____ و _____ هستند.	رقم‌های آن _____ و _____ هستند.

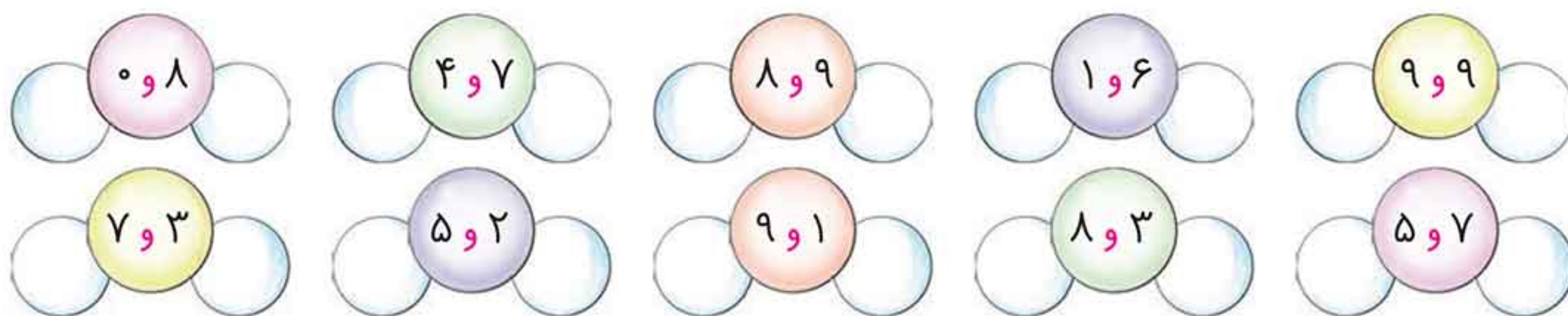
۲۴ جاهای خالی را کامل کنید.

- ۴۲ یک عدد \_\_\_\_\_ رقمی است.
- \_\_\_\_\_ و \_\_\_\_\_ رقم‌های عدد ۴۲ هستند.
- با رقم‌های عدد ۴۲ می‌توانیم عدد \_\_\_\_\_ را بنویسیم.
- عدد ۶۷ یک عدد \_\_\_\_\_ است.
- \_\_\_\_\_ و \_\_\_\_\_ رقم‌های عدد ۶۷ هستند.
- با رقم‌های عدد ۶۷ می‌توانیم عدد \_\_\_\_\_ را بنویسیم.





۲۵ با هر دو رقم چند عدد دو رقمی می‌توان نوشت؟ آن‌ها را بنویسید.



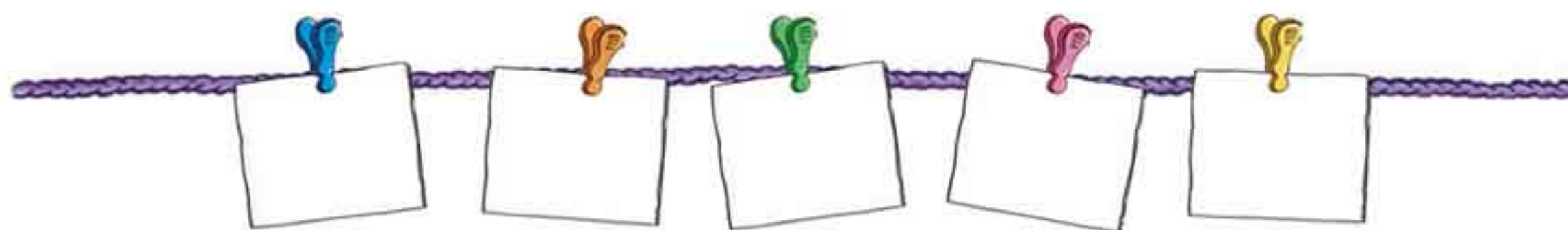
۲۶ یک عدد دو رقمی بنویسید که رقم‌های آن با هم فرق داشته باشند.



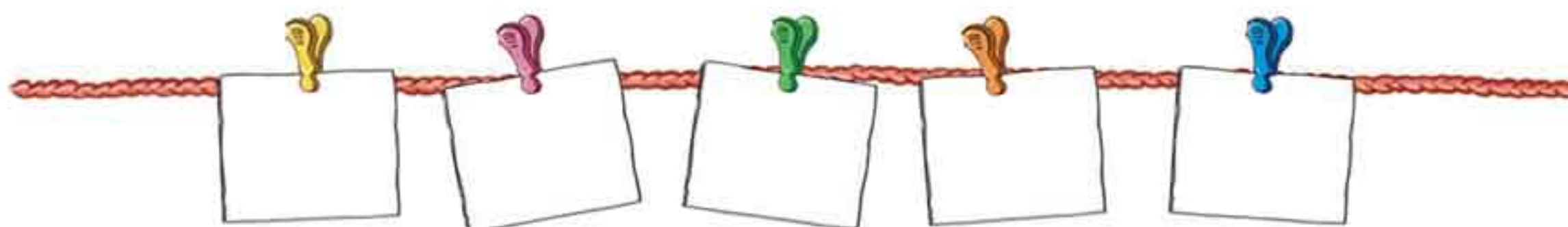
رقم‌های آن کدام‌اند؟ و \_\_\_\_\_

با این دو رقم یک عدد دو رقمی دیگر بنویسید. \_\_\_\_\_

۲۷ پنج عدد دو رقمی بنویسید که رقم‌های هر عدد مثل هم باشند.



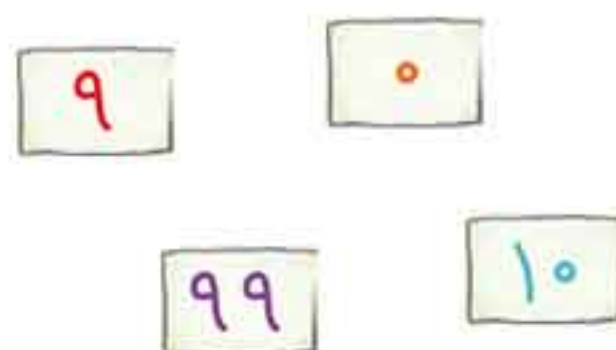
۲۸ پنج عدد دو رقمی بنویسید که یک رقم آن (۰) باشد.



۲۹ در هر شکل یک عدد دو رقمی بنویسید. سپس مانند نمونه، با رقم‌های هر عدد یک عدد دو رقمی دیگر بنویسید.



۳۰ آن‌هایی که به هم مربوط هستند، به یکدیگر وصل کنید.





۳۱ عدد مناسب بنویسید.

کوچک‌ترین عدد دو رقمی که رقم‌های آن مثل هم باشند.

بزرگ‌ترین عدد دو رقمی که یک رقم آن ۰ باشد.

بزرگ‌ترین عدد دو رقمی که رقم‌های آن مثل هم نباشند.

بزرگ‌ترین عدد دو رقمی که رقم ده‌تایی آن ۴ باشد.

کوچک‌ترین عدد دو رقمی که رقم یکی آن ۵ باشد.

کوچک‌ترین عدد دو رقمی که رقم ده‌تایی آن ۵ باشد.

۳۲ در عددهای زیر، کوچک‌ترین و بزرگ‌ترین عدد دو رقمی کدام‌اند؟

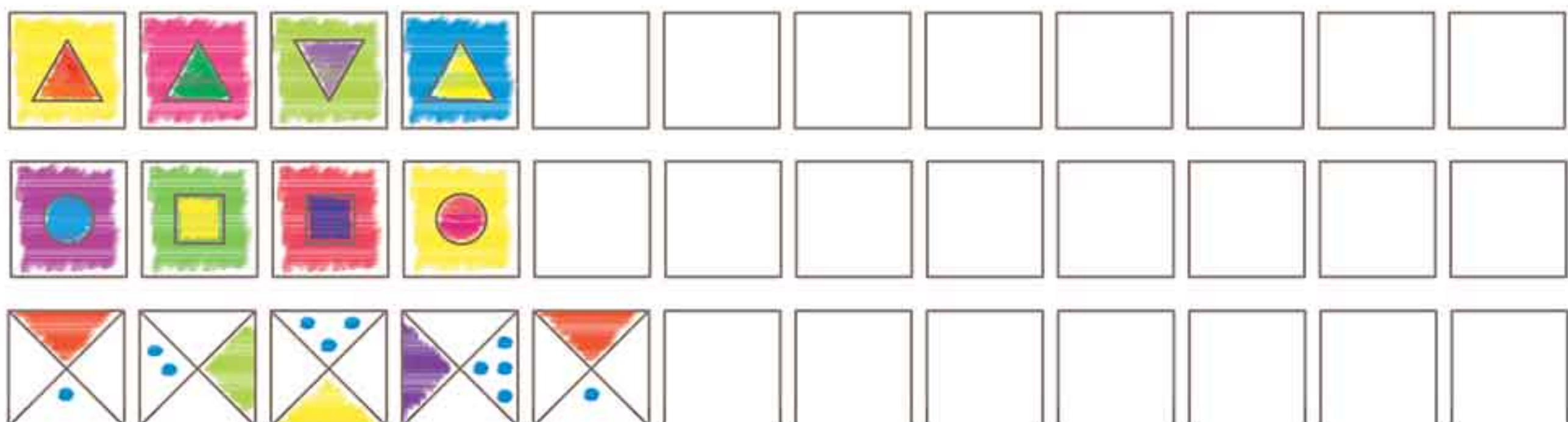


کوچک‌ترین عدد دو رقمی \_\_\_\_\_ بزرگ‌ترین عدد دو رقمی \_\_\_\_\_

۳۳ در جاهای خالی، عددهای دو رقمی بنویسید که رقم یکی آن‌ها ۳ باشد.



۳۴ الگو را ادامه دهید.





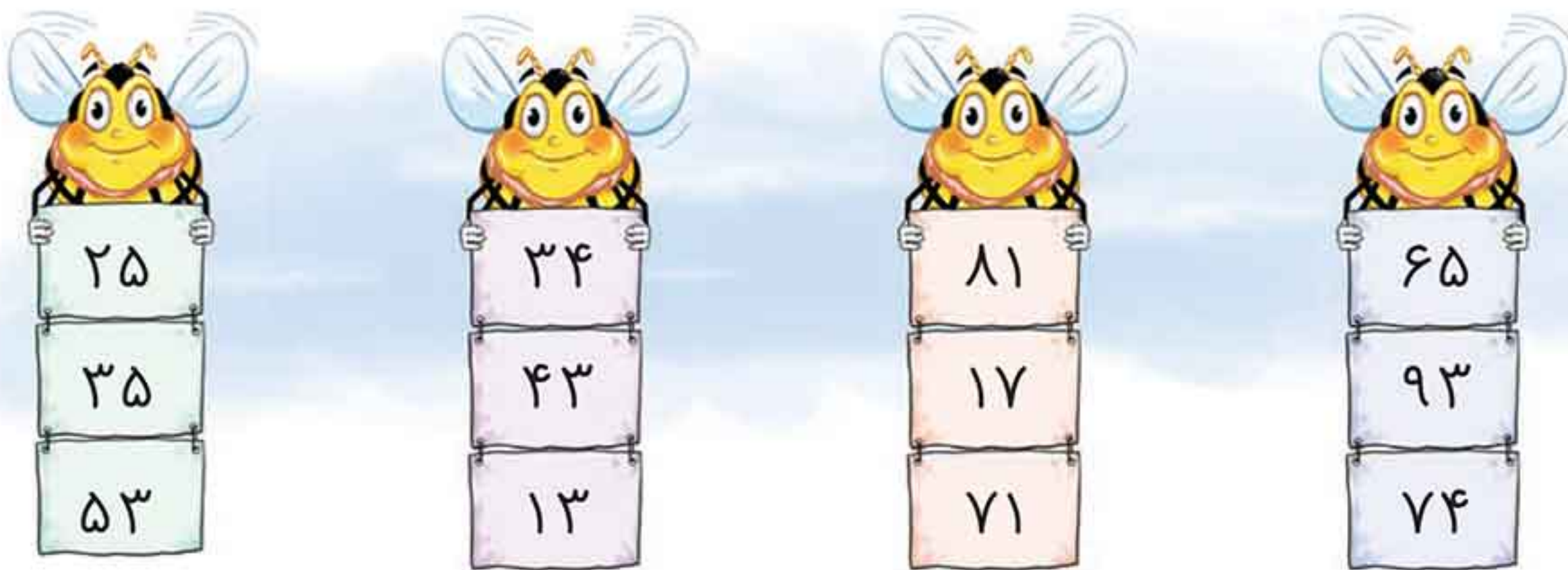
۳۵ در هر قسمت، عددی که رقم دهتایی آن با بقیه فرق دارد را رنگ کنید.



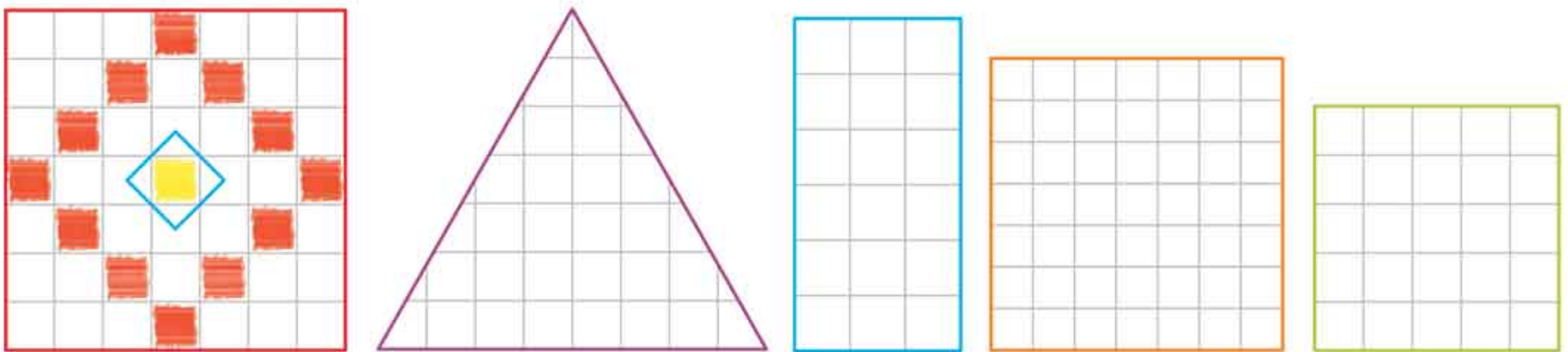
۳۶ در هر شکل، یک عدد دو رقمی بنویسید که رقم دهتایی آن ۹ باشد.



۳۷ در هر ردیف، کوچکترین عدد دو رقمی را علامت X بزنید.



۳۸ شکل زیر را در کدامیک از شکل‌های زیر می‌توان کشید؟ انجام دهید.



۳۹ مانند نمونه عددهای دو رقمی را به عدد و حروف بنویسید.





۴۰ در هر ردیف، عددها را به ترتیب بنویسید.

۴۶	۴۷					۵۳
۱۷	۱۸					۲۴
۲۷	۲۸					۳۴
۸۷	۸۸					۹۴
۵						۱۲
۱۵						۲۲
۳۵						۴۲
۵۲						۵۹
۷۵						۸۲

۴۱ عدد مربوط به هر کودک را روی لباسش (به رقم) بنویسید.

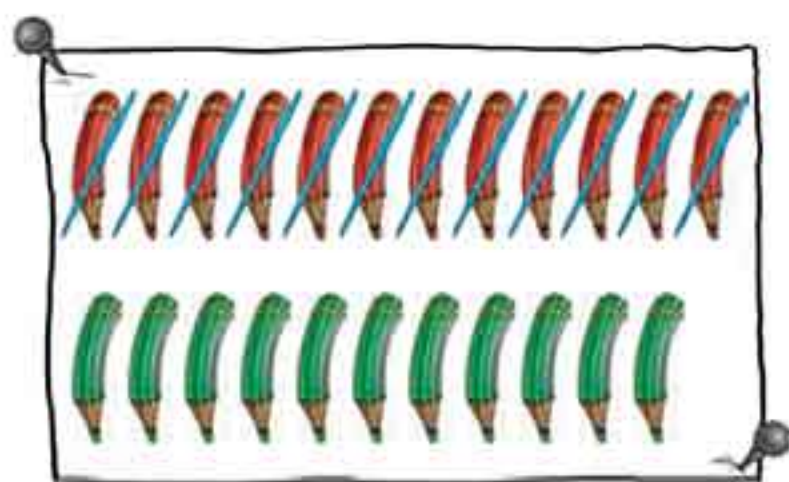





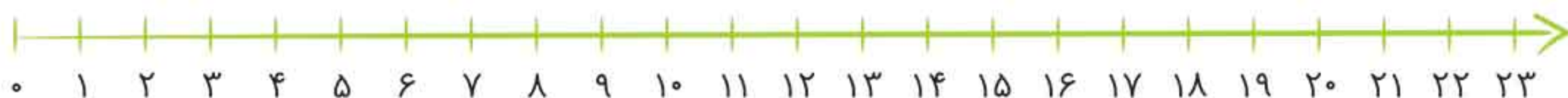


۴۲ با استفاده از شکل یا محور مسئله‌ها را حل کنید.

مریم ۲۳ مداد دارد. ۱۲ تا از مدادها قرمز و بقیه مداد سبز هستند. مریم چند مداد سبز دارد؟

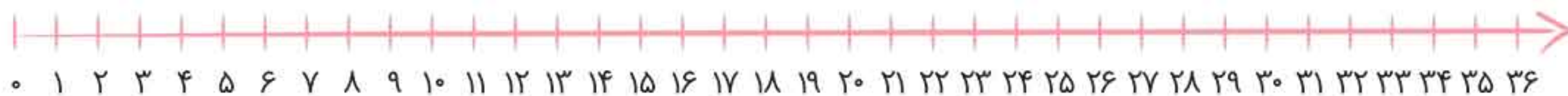


$$\underline{\hspace{2cm}} - \underline{\hspace{2cm}} = \underline{\hspace{2cm}}$$



رضا ۳۶ فرفره داشت. ۲۱ فرفره را به علی داد. رضا چند فرفره دارد؟


$$\underline{\hspace{2cm}} - \underline{\hspace{2cm}} = \underline{\hspace{2cm}}$$



۴۳ مسئله‌های زیر را با استفاده از چوب‌خط حل کنید.

۸ ماهی در آب شنا می‌کردند. ۷ ماهی دیگر آمدند.


چند ماهی در آب شنا می‌کنند؟



$$\underline{\hspace{2cm}} + \underline{\hspace{2cm}} = \underline{\hspace{2cm}}$$

۹ پرنده نشسته‌اند. بر روی درخت انجیر ۷ پرنده نشسته‌اند.

روی این دو درخت چند پرنده نشسته‌اند؟ (با چوب‌خط نشان دهید.)



$$\underline{\hspace{2cm}} + \underline{\hspace{2cm}} = \underline{\hspace{2cm}}$$





۴۴ برای هر شکل یک جمع بنویسید.



$$\underline{\quad} + \underline{\quad} = \underline{\quad}$$



$$\underline{\quad} + \underline{\quad} = \underline{\quad}$$



$$\underline{\quad} + \underline{\quad} = \underline{\quad}$$



$$\underline{\quad} + \underline{\quad} = \underline{\quad}$$



$$\underline{\quad} + \underline{\quad} = \underline{\quad}$$



$$\underline{\quad} + \underline{\quad} = \underline{\quad}$$



$$\underline{\quad} + \underline{\quad} = \underline{\quad}$$



$$\underline{\quad} + \underline{\quad} = \underline{\quad}$$



$$\underline{\quad} + \underline{\quad} = \underline{\quad}$$

۴۵ جواب جمع‌ها را با رسم چوب‌خط پیدا کنید.

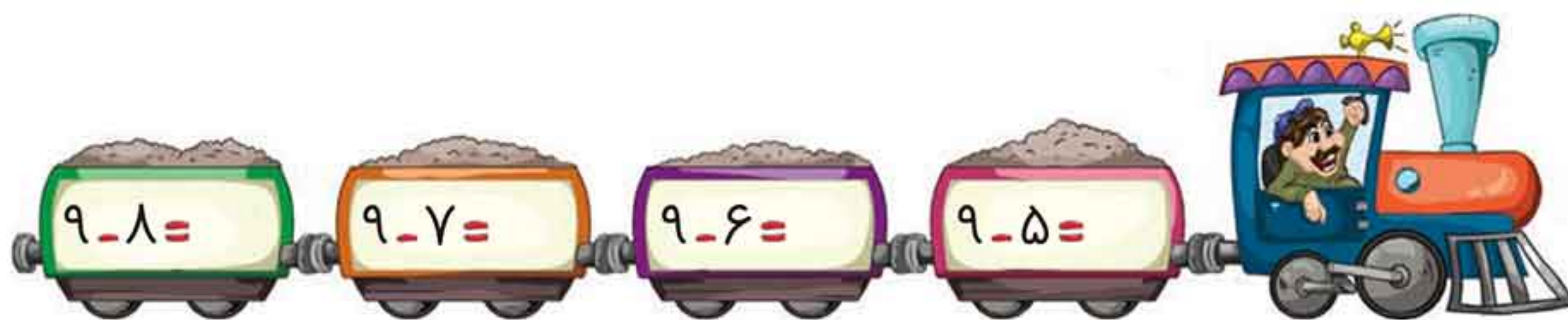
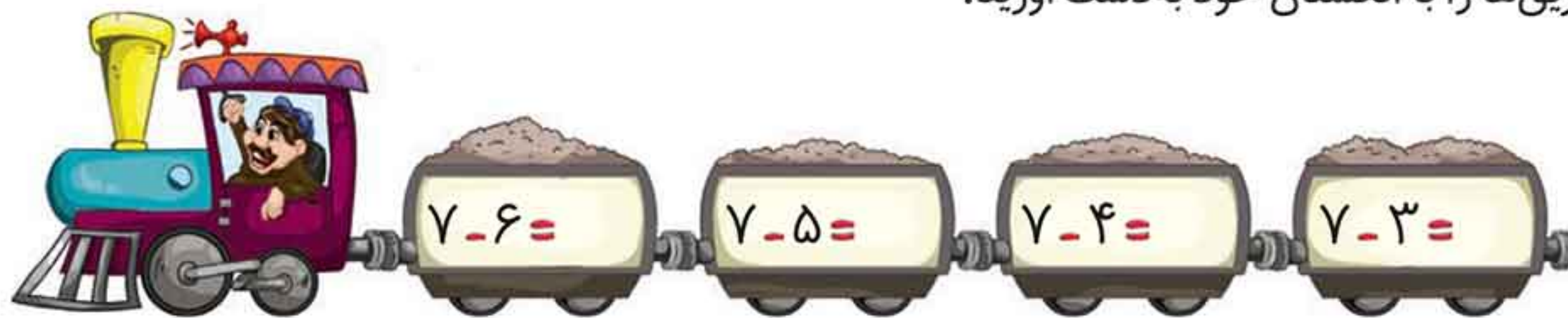
$$\underline{7} + \underline{5} = \underline{\quad}$$

$$\underline{8} + \underline{6} = \underline{\quad}$$

$$\underline{9} + \underline{4} = \underline{\quad}$$

$$\underline{6} + \underline{8} = \underline{\quad}$$

۴۶ حاصل تفریق‌ها را با انگشتان خود به دست آورید.





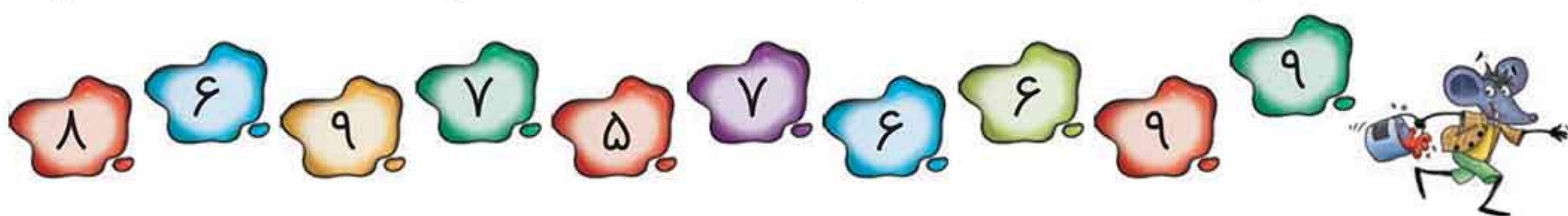
۴۷ برای هر شکل یک تفریق بنویسید.

$\underline{\quad} - \underline{\quad} = \underline{\quad}$	$\underline{\quad} - \underline{\quad} = \underline{\quad}$	$\underline{\quad} - \underline{\quad} = \underline{\quad}$
$\underline{\quad} - \underline{\quad} = \underline{\quad}$	$\underline{\quad} - \underline{\quad} = \underline{\quad}$	$\underline{\quad} - \underline{\quad} = \underline{\quad}$
$\underline{\quad} - \underline{\quad} = \underline{\quad}$	$\underline{\quad} - \underline{\quad} = \underline{\quad}$	$\underline{\quad} - \underline{\quad} = \underline{\quad}$
$\underline{\quad} - \underline{\quad} = \underline{\quad}$	$\underline{\quad} - \underline{\quad} = \underline{\quad}$	$\underline{\quad} - \underline{\quad} = \underline{\quad}$

۴۸ مانند نمونه، جواب هر جمع را بنویسید و حاصل آن را روی رنگ‌ها خط بزنید.



$۴ + ۵ = ۹$	$۲ + ۷ = \underline{\quad}$	$۶ + ۰ = \underline{\quad}$	$۴ + ۳ = \underline{\quad}$
$۲ + ۶ = \underline{\quad}$	$۸ + ۰ = \underline{\quad}$	$۲ + ۳ = \underline{\quad}$	$۳ + ۶ = \underline{\quad}$
$۳ + ۵ = \underline{\quad}$	$۲ + ۵ = \underline{\quad}$	$۱ + ۸ = \underline{\quad}$	$۳ + ۳ = \underline{\quad}$
$۱ + ۶ = \underline{\quad}$	$۴ + ۴ = \underline{\quad}$	$۵ + ۱ = \underline{\quad}$	$۷ + ۱ = \underline{\quad}$
$۲ + ۴ = \underline{\quad}$	$۴ + ۱ = \underline{\quad}$	$۵ + ۲ = \underline{\quad}$	$۶ + ۳ = \underline{\quad}$





۴۹ در هر جای خالی عدد مناسب بنویسید.



$$7 = 3 + \underline{\quad}$$

$$7 = 1 + \underline{\quad}$$

$$7 = 7 + \underline{\quad}$$

$$7 = 4 + \underline{\quad}$$

$$7 = 5 + \underline{\quad}$$

$$7 = 6 + \underline{\quad}$$

$$7 = 2 + \underline{\quad}$$

$$7 = 0 + \underline{\quad}$$



$$6 = 2 + \underline{\quad}$$

$$6 = 4 + \underline{\quad}$$

$$6 = 5 + \underline{\quad}$$

$$6 = 3 + \underline{\quad}$$

$$6 = 1 + \underline{\quad}$$

$$6 = 0 + \underline{\quad}$$



$$9 = 5 + \underline{\quad}$$

$$9 = 2 + \underline{\quad}$$

$$9 = 7 + \underline{\quad}$$

$$9 = 4 + \underline{\quad}$$

$$9 = 1 + \underline{\quad}$$

$$9 = 6 + \underline{\quad}$$

$$9 = 3 + \underline{\quad}$$

$$9 = 8 + \underline{\quad}$$

$$9 = 9 + \underline{\quad}$$

$$9 = 0 + \underline{\quad}$$



$$8 = 4 + \underline{\quad}$$

$$8 = 1 + \underline{\quad}$$

$$8 = 7 + \underline{\quad}$$

$$8 = 5 + \underline{\quad}$$

$$8 = 3 + \underline{\quad}$$

$$8 = 8 + \underline{\quad}$$

$$8 = 2 + \underline{\quad}$$

$$8 = 6 + \underline{\quad}$$

$$8 = 0 + \underline{\quad}$$



$$5 = 2 + \underline{\quad}$$

$$5 = 4 + \underline{\quad}$$

$$5 = 5 + \underline{\quad}$$

$$5 = 3 + \underline{\quad}$$

$$5 = 1 + \underline{\quad}$$

$$5 = 0 + \underline{\quad}$$

